

ВСЕРОССИЙСКАЯ ОЛИМПИАДА ШКОЛЬНИКОВ  
ТРУД (ТЕХНОЛОГИЯ). 2024–2025 уч. г.  
ШКОЛЬНЫЙ ЭТАП. 5–6 КЛАССЫ  
Профиль «Культура дома, дизайн и технология»  
Теоретический тур

**Максимальный балл за работу – 20.**

**Общая часть**







**1. (1 балл)** На данный момент на станции московского метрополитена «Площадь Революции» установлены 76 бронзовых фигур. Скульптуры изготовлены в Ленинградской мастерской художественного литья коллективом под руководством скульптора Матвея Генриховича Манизера. Рассмотрите фотографию одной из статуй.



Представительница какой профессии на ней изображена?

- а) шахтёр
- б) инженер
- в) птицевод
- г) хлебороб
- д) сигналист
- е) архитектор
- ж) пограничник

2. (1 балл) Рассмотрите предложенные изображения культурных растений. Выберите два изображения, на которых представлены **овощные** культуры.

а		б	
в		г	
д		е	

3. (1 балл) Рассмотрите фотографию.



Какое устройство является аналогом изображённого на фотографии предмета?

- а) фен
- б) утюг
- в) радио
- г) пылесос
- д) телефон
- е) стиральная машина
- ж) микроволновая печь
- з) посудомоечная машина

4. (1 балл) В магазине один килограмм киви стоит 220 рублей. На время проведения акции цена на киви была снижена на четверть. Сколько рублей стоил килограмм киви во время акции?

5. (1 балл) Вася начертил прямоугольник и обозначил его размеры в миллиметрах (см. *Рисунок*). Чему равна площадь прямоугольника в квадратных сантиметрах?



*Рисунок*

### Специальная часть

6–7

**6. (1 балл)** Отгадайте загадку, получите название пищевого продукта. В ответ запишите только одно слово в именительном падеже.

Свой крысиный длинный хвост  
Под землю она прячет.  
Выдернем мы за ботву  
Бордовый сладкий мячик.

**7. (1 балл за полностью верный ответ)** Из предложенного списка выберите все блюда, в рецепт которых входит отгадка на загадку.

- а) борщ
- б) вареники с творогом
- в) сельдь под шубой
- г) суп харчо
- д) плов с бараниной
- е) винегрет

**8. (1 балл за полностью верный ответ)** Вставьте в текст пропущенные слова из предложенного списка.

Во время работы в кулинарной мастерской наденьте \_\_\_\_\_, уберите волосы под \_\_\_\_\_, тщательно \_\_\_\_\_ и вытрите их. \_\_\_\_\_ должны быть коротко \_\_\_\_\_.

*Список слов:* вымойте, косынка, ногти, подстрижены, руки, фартук.

**9. (1 балл за полностью верный ответ)** Установите соответствие между пищевыми продуктами и названиями групп, к которым они относятся.

Пищевые продукты	Группы
а) яблоко	1) зерномучные продукты
б) сметана	2) молочные продукты
в) баранина	3) мясные продукты
г) кабачок	4) овощи
д) филе судака	5) рыбные продукты
	6) фрукты

**10–11. (2 балла: по 1 баллу за верный ответ на каждый вопрос)**

**10.** Из предложенного списка выберите слово, чтобы получить известную поговорку: «Достались от \_\_\_\_\_ рукава».

- а) жакет
- б) жилетка
- в) шуба
- г) рубашка

**11.** Что обозначает эта поговорка?

- а) получили хороший подарок
- б) ничего не досталось
- в) приготовили вкусную еду
- г) приехали долгожданные гости

**12–13**

**12. (1 балл)** Решите ребус. В ответ запишите только одно слово в именительном падеже.



**13. (1 балл)** Каково назначение данного приспособления?






- а) при выполнении работ на швейной машине
- б) при выполнении ручных швейных работ
- в) при выполнении влажно-тепловой обработки
- г) при выполнении ремонта электроприборов

**14. (1 балл за полностью верный ответ)** Из предложенных изображений женской одежды, выберите те, которые относятся к стилю «милитари».

				
а	б	в	г	д

**15–16**

**15. (1 балл за полностью верный ответ)** Установите соответствие между названиями блюд и их изображениями.

Название блюда	Изображение блюда	
1) «Мимоза» 2) «Оливье» 3) «Витаминный»	а)	
	б)	
	в)	
	г)	
	д)	

**16. (1 балл)** Дайте общее название блюд: «Оливье», «Мимоза», «Цезарь», «Греческий», «Витаминный». В ответ запишите только одно слово в именительном падеже.

**17–18**

**17. (1 балл)** Как называется блюдо, изображённое на рисунке?



- а) винегрет
- б) греческий салат
- в) канапе
- г) лазанья

**18. (1 балл за полностью верный ответ)** Выберите из предложенного списка пищевые продукты, которые используются для приготовления этого блюда.

- а) консервированный зелёный горошек
- б) картофель отварной
- в) колбаса докторская
- г) лук репчатый
- д) майонез
- е) масло оливковое
- ж) морковь варёная
- з) огурцы свежие
- и) огурцы солёные
- к) оливки (или маслины) без косточек
- л) перец болгарский
- м) помидоры
- н) сухарики пшеничные
- о) сыр фета или брынза
- п) яйца, сваренные вкрутую



**19. (1 балл за полностью верный ответ)** Расположите технологические операции приготовления этого блюда в правильном порядке.

1. Добавить сыр и оливки. Аккуратно перемешать и подавать к столу.
2. Подготовить все необходимые пищевые продукты. Овощи тщательно вымыть, почистить.
3. Подготовить заправку: смешать оливковое масло, винный уксус, чёрный молотый перец и соль; перемешать. В салатницу выложить овощи, залить их заправкой, перемешать.
4. Томаты черри нарезать половинками. Огурцы порезать крупными брусочками. Болгарский перец нарезать соломкой, а репчатый лук – тонкими полукольцами, сыр нарезать кубиками.

**20. (1 балл за полностью верный ответ)** Выберите из предложенного списка инструменты, оборудование и приспособления, которые потребуются для приготовления этого блюда.

- а) газовая плита
- б) кастрюля
- в) нож
- г) пароварка
- д) разделочная доска
- е) сковорода
- ж) тёрка
- з) чайник