

ВСЕРОССИЙСКАЯ ОЛИМПИАДА ШКОЛЬНИКОВ  
ОБЖ. 2023–2024 уч. г.  
ШКОЛЬНЫЙ ЭТАП. 7–8 КЛАССЫ

**Максимальный балл за работу – 100.**

**Тестовые задания**

**Определите один правильный ответ.**

За правильный ответ начисляется 2 балла.

1. **В соответствии с ПДД РФ лицо (кроме водителя), которое входит в транспортное средство (садится на него), пассажиром**
  - не является
  - является всегда
  - является только в возрасте младше 7 лет
  - не является в возрасте старше 14 лет
  
2. **Категорически запрещается размещать газовые баллоны от газовой плиты на расстоянии менее**
  - 0,5 м
  - 0,3 м
  - 1 м
  - 1,5 м
  
3. **Для не умеющих плавать пользователей любого возраста и любой массы тела рекомендуется выбирать спасательный жилет, имеющий уровень плавучести**
  - 50
  - 100
  - 120
  - 150
  
4. **Агентством по обеспечению и координации российского участия в международных гуманитарных операциях является**
  - ОКСИОН
  - ЛИДЕР
  - ВЦЭРМ
  - ЭМЕРКОМ
  
5. **Определите опасное гидрологическое явление (процесс).**
  - курум
  - карст
  - тайфун
  - сель

6. В Москве зелёный контейнер типа колокол для раздельного сбора мусора предназначен для

- картона
- стекла
- бумаги
- пластика

7. Определите минимальное рекомендуемое расстояние эвакуации при обнаружении предмета, подозрительного на взрывное устройство (кейс).

- 230 м
- 250 м
- 60 м
- 460 м



8. Верны ли следующие суждения?

**Понятие рационального питания включает соблюдение следующих принципов:**

- обеспечение баланса энергии, поступающей с пищей и расходуемой человеком в процессе жизнедеятельности
- удовлетворение потребности организма во всех пищевых веществах
- верно только А
- верно только Б
- верны оба суждения
- оба суждения неверны

9. В результате ожога руки горячей водой на месте травмы появились покраснение, отёк, единичные пузыри с прозрачным содержимым. Пострадавший жалуется на жгучую боль. По признакам определите степень ожога.

- первая
- вторая
- третья
- четвёртая

10. Окклюзионная повязка применяется при ранении

- головы
- груди
- конечностей
- таза

**Определите два правильных ответа.**

За каждый правильный ответ начисляется 2 балла.

0 баллов выставляется за неправильный ответ, а также, если участником отмечено более двух ответов (в том числе правильные).

11. **Какие виды костров рекомендуют использовать для приготовления пищи, просушки белья и обогрева?**
- «Нодья»
  - «Пирамида»
  - «Полинезийский»
  - «Шалаш»
  - «Решётка»
12. **Что НЕ РЕКОМЕНДУЕТСЯ делать в грозу?**
- разводить костёр
  - прятаться под низкими кустарниками
  - прижиматься к стволу дерева
  - находиться от дерева на расстоянии 4–5 м
  - сидеть в позе эмбриона
13. **Что относится к сопутствующим проявлениям опасных факторов пожара?**
- снижение видимости в дыму
  - воздействие огнетушащих веществ
  - тепловой поток
  - повышенная температура окружающей среды
  - опасные факторы взрыва, произошедшего вследствие пожара
14. **Определите дату создания РСЧС.**
- 8 мая
  - 18 апреля
  - 15 июня
  - 1993 года
  - 1992 года
15. **Определите признаки устойчивого ненастья.**
- сильно мерцают звёзды
  - в воздухе сырость днём и ночью, даже при отсутствии дождя
  - ночью нет росы или она очень слабая
  - венцы вокруг Луны уменьшаются
  - мелкие птицы забиваются в середину крон деревьев






- 16. Определите рекомендации безопасного поведения в лифте.**
- постарайтесь по возможности быстрее зайти в лифт
  - если с вами в лифт садится незнакомец, пропустите его, поднимитесь позже или воспользуйтесь лестницей
  - если с вами в лифт садится незнакомец, достаньте мобильный телефон, тем самым показывая, что готовы воспользоваться им
  - если с вами в лифт садится незнакомец, постарайтесь занять угол в лифте
  - не спешите заходить в лифт, осмотритесь
- 17. Экстремистская деятельность (экстремизм) – это**
- публичное оправдание терроризма
  - подстрекательство к террористическому акту
  - вербовка, вооружение, обучение и использование террористов
  - пропаганда идей терроризма
  - воспрепятствование осуществлению гражданами их избирательных прав
- 18. Какие из пищевых веществ относятся к макронутриентам?**
- витамины
  - макроэлементы
  - белки
  - микроэлементы
  - жиры
- 19. Пешеход поскользнулся, упал с упором на вытянутую руку. В области запястья появились резкая боль, отёк. Какие суставы необходимо иммобилизовать в данном случае?**
- плечевой
  - локтевой
  - лучезапястный
  - пястно-фаланговые
  - межфаланговые
- 20. Что рекомендуется делать для определения наличия (отсутствия) сознания у пострадавшего при оказании первой помощи?**
- аккуратно похлопать по щекам пострадавшего
  - обратиться к пострадавшему с вопросом, например, «Вы в порядке?»
  - растереть мочки ушей пострадавшего
  - осторожно встряхнуть за плечи
  - похлопать в ладоши перед ухом пострадавшего

**Максимальный балл за тестовые задания – 60.**

### Теоретические задания

**21.** На территории России можно встретить растения, представляющие угрозу для здоровья человека. Каждый должен знать о таких растениях и уметь их отличать.

Установите соответствие между изображением растения и его названием.

	Белладонна (красавка)
	Вёх ядовитый
	Борщевик Сосновского
	Клещевина
	Белена чёрная

**22.** Подробный осмотр пострадавшего при оказании первой помощи выполняется в определённой последовательности.

Расставьте наименования анатомических областей тела человека в последовательности выполнения их осмотра.

<b>Очерёдность выполнения подробного осмотра</b>
1.
2.
3.
4.
5.
6.

<b>Наименование анатомических областей тела человека</b>
Конечности
Грудь
Спина
Голова
Шея
Живот и таз

**23.** Выберите **две** цели подробного осмотра пострадавшего.

- выявление признаков наружного кровотечения
- выявление признаков травм
- выявление признаков отравлений, других состояний, угрожающих жизни и здоровью пострадавшего
- контроль за состоянием пострадавшего
- определение признаков жизни у пострадавшего

**24.** Флаги на пляжах предназначены для информирования пользователей о потенциальных рисках.

Какой флаг вывешивается на пляжах Российской Федерации, когда купание запрещено?

- чёрный
- жёлтый
- фиолетовый
- чёрный / красный (разделённый на четыре части)
- жёлтый флаг с центральным чёрным кругом

Определите, о чём информируют изображённые флаги на пляжах за пределами Российской Федерации.

**Значение флага:** средняя опасность; высокая опасность; присутствуют морские вредители; присутствует морской ветер, надувные лодки использовать нельзя; использование водного транспорта запрещено (например, доски для сёрфинга); рекомендуемая зона для купания под наблюдением спасателей; район плавсредств.

25. Определите, о чём информирует изображённый флаг на пляжах за пределами Российской Федерации.



\_\_\_\_\_.

26. Определите, о чём информирует изображённый флаг на пляжах за пределами Российской Федерации.



\_\_\_\_\_.

27. Определите, о чём информирует изображённый флаг на пляжах за пределами Российской Федерации.



\_\_\_\_\_.

28. Определите, о чём информирует изображённый флаг на пляжах за пределами Российской Федерации.



\_\_\_\_\_.

**Максимальный балл за работу – 100.**