

**ВСЕРОССИЙСКАЯ ОЛИМПИАДА ШКОЛЬНИКОВ
ФИЗИЧЕСКАЯ КУЛЬТУРА. 2022 г.
ПРИГЛАСИТЕЛЬНЫЙ ЭТАП
6–7 КЛАССЫ**

КРИТЕРИИ ОЦЕНИВАНИЯ

№ задания	Тип задания	Критерии
Задания 1–20	Выбор одного правильного ответа	Верный ответ оценивается в 1 балл, неправильно выполненное задание – 0 баллов
Задания 21–25	Краткий ответ	За каждое верно написанное число/слово – 2 балла.
Задания 26–28	Установить соответствие	Каждое верно установленное соответствие оценивается в 1 балл, неправильное – 0 баллов.
Задание 29	Установить последовательность	Полностью верно установленная последовательность оценивается в 5 баллов, в остальных случаях – 0 баллов

Максимальное количество баллов за работу – 50.

Пригласительный (пробный) этап ВсОШ в городе Москве, физическая культура, 6-7 класс, 2022

13 май 2022 г., 08:45 — 14 май 2022 г., 21:15

№ 1

1 балл

Античные Олимпийские игры получили своё название потому, что соревнования проводились

- у подножия горы Олимп
- в местности, называемой Олимпией
- в честь олимпийских богов
- после зажжения олимпийского огня

№ 2

1 балл

Когда и где состоялись II Олимпийские игры современности?

- в 1896 году в Греции
- в 1898 году в Великобритании
- в 1900 году во Франции
- в 1904 году в США

№ 3

1 балл

Первым олимпийским чемпионом современности стал

 Джеймс Коннолли Корибос Спирос Луис Милон

№ 4

1 балл

В древних Олимпийских играх было состязание в пентатлоне (пятиборье), который включал в себя

 бег, прыжки в высоту с разбега, толкание ядра, кросс по пересечённой местности, кулачный бой кулачный бой, верховую езду, панкратион, гонки на колесницах, марафонский бег бег, прыжки в длину, метание копья и диска, борьбу плавание, бег, верховую езду, фехтование, борьбу

№ 5

1 балл

Когда был основан Всесоюзный физкультурно-спортивный комплекс «Готов к труду и обороне»?

 в 1929 г. **в 1931 г.** **в 1934 г.** **в 1936 г.****№ 6**

1 балл

Что является итогом успешного выполнения испытаний комплекса ГТО на каждой ступени?

 золотая медаль **звание мастера спорта Российской Федерации** **оценка «отлично» по предмету «Физическая культура» в учебном году** **золотой знак**

№ 7

1 балл

Под физической культурой понимается

- часть культуры общества и человека
- процесс развития физических способностей
- вид воспитания, направленный на обучение движениям и развитие физических качеств
- развитие естественных сил природы и воспитание гигиенических качеств

№ 8

1 балл

Какие физические упражнения преимущественно используют при воспитании ловкости?

- прыжки через препятствия
- бег на короткие дистанции
- приседания
- челночный бег

№ 9

1 балл

Какие обязательные разделы программы включены в уроки физической культуры?

 спортивные игры, гимнастика, лёгкая атлетика аэробика, теннис, плавание бег, прыжки, метания подтягивания, приседания, бег, прыжки

№ 10

1 балл

Способы выполнения двигательных действий, с помощью которых двигательная задача решается с относительно большей эффективностью, принято называть

 двигательными умениями двигательными навыками техникой физических упражнений физическим совершенством

№ 11

1 балл

Назовите основные физические качества.

- координация, ЧСС, гибкость, сила, быстрота
- ловкость, сила, быстрота, выносливость, гибкость
- общая выносливость, скоростно-силовая выносливость, быстрота, сила, ловкость
- общая выносливость, силовая выносливость, гибкость, объём бицепсов, ловкость

№ 12

1 балл

Соревнования – это неотъемлемая часть

- физической культуры
- методики воспитания физических качеств
- спорта
- процесса обучения

№ 13

1 балл

К циклическим видам спорта относятся

- борьба, бокс, фехтование
- баскетбол, волейбол, футбол
- лыжные гонки, плавание
- метание мяча, диска, молота

№ 14

1 балл

Какое из упражнений является статическим?

- махи ногами
- бег
- подтягивание на перекладине
- стойка на лопатках

№ 15

1 балл

К малоэффективным упражнениям для воспитания силы относят

 подтягивание на перекладине упражнения с гантелями отжимания кувырки**№ 16**

1 балл

Какой из видов спорта относится к игровым?

 фехтование скелетон кёрлинг шорт-трек

№ 17

1 балл

Волейбол как спортивная игра появился в конце XIX в. в

- США**
- Канаде
- Японии
- Германии

№ 18

1 балл

Начало какой из спортивных игр сопровождается спорным броском мяча в центре круга?

- баскетбол**
- гандбол
- волейбол
- регби

№ 19

1 балл

В каком виде спорта нет технического приёма «ведение мяча»?

 флорбол баскетбол теннис футбол

№ 20

1 балл

Основная причина нарушения осанки

 нарушение режима питания гиподинамия слабость мышц неправильно подобранная мебель

№ 21

2 балла

В каком году состоялись первые Олимпийские игры современности? В ответ запишите только число.

1896

№ 22

2 балла

Как на официальных соревнованиях по лёгкой атлетике называется препятствие в беге?

Барьер

№ 23

2 балла

Вид спорта, который совместил в себе лыжную гонку и стрельбу из винтовки, называется

Биатлон

№ 24

2 балла

Назовите положение занимающегося на согнутых ногах.

присед

№ 25

2 балла











Какое максимальное количество игроков одной команды одновременно может находиться на площадке в волейболе?

6

№ 26

5 баллов

Установите соответствие между материком и цветом кольца олимпийского флага.













Австралия			Красный
Азия			Голубой
Америка			Жёлтый
Африка			Зелёный
Европа			Чёрный

Connections shown in the image:
 - Австралия (Orange dot) connects to Красный (Red)
 - Азия (Blue dot) connects to Жёлтый (Yellow)
 - Америка (Light blue dot) connects to Чёрный (Black)
 - Африка (Purple dot) connects to Зелёный (Green)
 - Европа (Pink dot) connects to Голубой (Light blue)

№ 27

4 балла

Олимпийские пиктограммы – стилизованные изображения олимпийских видов спорта, в основе которых лежат силуэты спортсменов. Определите соответствие каждой пиктограммы олимпийскому виду спорта.







			гольф
			футбол
			стрельба из лука
			баскетбол

Connections shown in the image:
 - Pictogram 1 (Running with ball) connects to Гольф (Golf)
 - Pictogram 2 (Bow) connects to Стрельба из лука (Archery)
 - Pictogram 3 (Golf club) connects to Футбол (Football)
 - Pictogram 4 (Basketball) connects to Баскетбол (Basketball)

№ 28

6 баллов











Установите соответствие между спортсменами и видом спорта.

спортивная гимнастика			Евгений Малкин
лыжные гонки			Александр Большунов
плавание			Никита Нагорный
хоккей			Сергей Шубенков
лёгкая атлетика			Юлия Ефимова
фигурное катание			Анна Щербакова

№ 29

5 баллов

Запишите верную последовательность действий на уроке физической культуры в школе.

1			зучивание техники прыжка в длину
2			выполнение строевых команд
3			разминка
4			подвижная игра на внимание
5			построение