

ВСЕРОССИЙСКАЯ ОЛИМПИАДА ШКОЛЬНИКОВ**2021–2022 уч. г.****Пригласительный этап.****История. 6 класс.**

№ задания	Тип задания	Критерии
1	Выбрать несколько ответов	За каждый правильный ответ – 1 балл. Если выбрано больше 4 утверждений, то 0 баллов. За каждый неверный выбор штраф – 1 балл. Максимум за задание – 3 балла.
2-3	Выбрать один ответ	Максимум за каждое задание – 1 балл.
4	Установить соответствия	По 1 баллу за каждую верную пару. Максимум за задание – 6 баллов.
5-7	Выбрать один ответ	Максимум за каждое задание – 1 балл.
8-9	Краткий ответ	Максимум за каждое задание – 1 балл.
10	Выбрать несколько ответов	За каждый правильный ответ – 1 балл. Если выбрано больше 4 утверждений, то 0 баллов. За каждый неверный выбор штраф – 1 балл. Максимум за задание – 3 балла.
11	Выбрать один ответ	По 1 баллу за каждый верный ответ. Максимум за задание - 5 баллов.

Максимум за работу – 24 балла.

Пригласительный (пробный) этап ВсОШ в городе Москве, история, 6 класс, 2022

14 апр 2022 г., 08:45 — 15 апр 2022 г., 21:15

№ 1

3 балла

Какие научно-технические изобретения были созданы к концу XIV века?

наручные часы

астролябия

порох

очки

динамитная шашка

револьвер

№ 2 – 3

1 балл

Дайте краткое обоснование ряда: что объединяет три элемента из перечисленных?

грамматика, схоластика, диалектика (логика), риторика.

науки, изучаемые в церковных школах Киевской Руси при Ярославе Мудром

науки «тривиума» в Средние века

науки «квадривиума» в Средние века

книги, изданные в типографии Ивана Федорова

1 балл

Укажите элемент, лишний в приведенном ряду.

грамматика

схоластика













диалектика (логика)

риторика

№ 4

6 баллов

Расположите в хронологической последовательности перечисленные события.

1		 строительство Успенского собора во Владимире
2		 строительство собора Святой Софии в Константинополе
3		 строительство собора Святой Софии в Новгороде
4		 строительство собора Санта-Мария-дель-Фьоре во Флоренции
5		 строительство Успенского собора в Москве
6		 строительство собора Святой Софии в Киеве

1 балл

Внимательно рассмотрите карту и выполните задания.

[Открыть изображение в отдельном окне](#)



Выберите из списка корректную датировку событий, обозначенных на карте.

1337–1453 гг.

1455–1585 гг.

732–1492 гг.

1433–1453 гг.

1565–1572 гг.

1 балл

Выберите из списка корректное название событий, обозначенных на карте.

- Альбигойские войны
- Реконкиста
- Столетняя война
- Война Алой и Белой розы
- движение таборитов

1 балл

Выберите из списка буквенное обозначение территорий, на которые претендовали обе воюющие стороны в силу экономической значимости этих территорий.

- А
- Б
- В
- Г
- Д
- Е

1 балл

Напишите цифру, обозначающую город, в снятии осады которого приняла участие историческая личность, известная как «Орлеанская дева».

1

1 балл

Напишите цифру, обозначающую посёлок, близ которого развернулось первое значительное сражение изображённой войны, обернувшееся тяжёлыми потерями для одной из противоборствующих сторон.

4

3 балла

Выберите верные утверждения.

- Цифрой «3» на карте обозначен город, в котором некоторое время находилась резиденция Папы Римского.
- Буквой «Д» на карте обозначено Адриатическое море.
- По состоянию на время, отражённое на карте, территории, обозначенные буквами «В» и «Г», входили в состав Англии.
- Территория, обозначенная буквой «А», являлась одним из крупнейших в Европе центром производства тканей вообще и сукна в частности.
- В ходе битв близ населённых пунктов, обозначенных на карте цифрами «2» и «4», было выявлено значительное превосходство лучников одной воюющей стороны над арбалетчиками другой.

5 баллов

Перед вами гравюры из первого иллюстрированного издания «Истории государства Российского» выдающегося русского историка Н.М. Карамзина. Внимательно рассмотрите каждое изображение и подберите к нему отрывок с соответствующим описанием.


[Открыть отрывки с описанием в отдельном окне](#)



А Б В Г Д




А Б В Г Д



А Б В Г Д



А Б В Г Д



А Б В Г Д

Отрывки:

А) Отправилась Ольга в Греческую землю и пришла к Царьграду. Был тогда цесарь Константин, сын Льва. И увидев, что она красива лицом и весьма умна, подивился цесарь её разуму, беседуя с нею, и сказал ей: «Достойна ты царствовать с нами в городе этом». Она же, поразмыслив, ответила цесарю: «Я язычница; если хочешь крестить меня, то крести меня сам – иначе не крещусь». И крестил её цесарь с патриархом.

Б) Преставился великий князь русский Ярослав. Ещё при жизни дал он наставление сыновьям своим, сказав им: «Вот я покидаю мир этот, а вы, сыновья мои, имейте любовь между собой... Вот я поручаю престол мой в Киеве старшему сыну моему и брату вашему Изяславу; слушайтесь его, как слушались меня, пусть будет он вам вместо меня; а Святославу даю Чернигов, а Всеволоду Переяславль, а Вячеславу Смоленск».

В) Выступил в поход Олег, взяв с собою много воинов своих: варягов, чудь, славян, мерю, весь, кривичей, и овладел городом Смоленском и посадил в нём своего мужа. Оттуда отправился вниз, и придя, взял Любеч, и также посадил мужа своего. И пришли к горам киевским, и увидел Олег, что княжат тут Аскольд и Дир, спрятал он воинов в ладьях, а других оставил позади, а сам приступил, неся отрока Игоря.

Г) На следующий день призвал Игорь послов и пришёл на холм, где стоял Перун; и сложили оружие своё, и щиты, и золото и присягали Игорь и мужи его – сколько было язычников между русскими. А христиан русских водили в церковь святого Ильи.

Д) Пришёл Святослав к порогам, и напал на него Куря, князь печенежский, и убили Святослава, и взяли голову его, и сделали чашу из черепа, оковав его, и пили из него. Свенельд же пришёл в Киев к Ярополку. А было всех лет княжения Святослава двадцать восемь.