

ПРИГЛАСИТЕЛЬНЫЙ ШКОЛЬНЫЙ ЭТАП
ВСЕРОССИЙСКОЙ ОЛИМПИАДЫ ШКОЛЬНИКОВ
ИСТОРИЯ. 2020 г. 9 класс

В заданиях 1–3 выберите один верный ответ.

1. Прочитайте отрывок из исторического источника и укажите, в каком году произошло описанное событие.

«Благоверный князь просил сопровождавшего его священника Николая совершить молебен перед иконой Божией Матери и долго со слезами молился перед чтимым образом. В это время ему явилась Пресвятая Богородица со свитком в правой руке и повелела благочестивому князю образ Её, принесённый из Вышгорода, поставить во Владимире, а на месте Её чудесного явления построить храм и святую обитель».

- 1) 1113
- 2) 1132
- 3) 1157
- 4) 1299

2. Ниже приведён список литературных произведений византийских авторов. Укажите, в каком из них неоднократно упоминаются росы и славны, особенности их быта и подготовка к военным походам на Константинополь.

- 1) Книга Эпарха
- 2) «Трактат об управлении империей» Константина Багрянородного
- 3) «Алексиада»
- 4) «Война кошек и мышей» Продрома

3. Какая московская крепость располагалась на месте современного Бульварного кольца?

- 1) Кремль
- 2) Белый город
- 3) Китай-город
- 4) Земляной город

В заданиях 4–6 выберите несколько верных ответов из предложенных.

4. Ниже приведён список исторических терминов (названий). Укажите те из них, которые обозначают элементы средневекового русского вооружения.

- 1) бердыш
- 2) лучина
- 3) паникадило
- 4) сулица
- 5) финифть
- 6) булава

5. Ниже приведён список известных исторических деятелей. Укажите тех из них, кто в XVIII веке получил почётную приставку к фамилии.

- 1) П.П. Семёнов-Тян-Шанский
- 2) М.Н. Муравьёв-Виленский
- 3) В.М. Долгоруков-Крымский
- 4) Н.Н. Муравьёв-Карский
- 5) П.А. Румянцев-Задунайский
- 6) А.В. Суворов-Рымникский

6-7. По какому принципу образованы ряды? Выберите ответ из списка.

6. 1698, 1713, 1725, 1769, 1798.

Варианты:

- 1) годы заключения мирных договоров с Османской империей
- 2) годы проведения реформ административного деления России
- 3) годы учреждения российских высших наград (орденов)
- 4) годы рукоположения святейших Патриархов всея Руси

7. Г.М. Курин, В. Кожина, Д.В. Давыдов, А.Н. Сеславин.

Варианты:

- 1) герои битвы при Аустерлице 1805 года
- 2) участники героической обороны Севастополя
- 3) участники партизанской борьбы во время Отечественной войны 1812 года
- 4) выдающиеся поэты, современники Александра I

8. Установите соответствие между названиями литературных произведений и правителями, на годы правления которых приходятся основные события произведения.

ЛИТЕРАТУРНЫЕ ПРОИЗВЕДЕНИЯ

«Ревизор»
«Кому на Руси жить хорошо»
«Капитанская дочка»
«Война и мир»
«Князь Серебряный»
«Полтава»

ПРАВИТЕЛИ

Александр II
Екатерина II
Иван IV
Пётр I
Елизавета Петровна
Николай I
Александр I

9-24. Прочитайте текст. Определите пропущенные в тексте названия, слова, имена, даты, обозначенные порядковыми номерами. При необходимости при порядковых номерах даются пояснения о характере требуемой вставки.

Внимание! Список ответов избыточен.

После смерти в 1359 году московского князя (**1 – имя и прозвище правителя**), сына (**2 – имя и прозвище**), на московский престол взошёл князь (**3 – имя**), которому было тогда только 9 лет. В первые годы его правления его опекуном был живший в Москве митрополит (**4 – имя**), помогавший править и отстаивать свою власть молодому князю.

Надо сказать, что молодому князю очень повезло – в правление его деда на Руси на 40 лет воцарилась (**5 – аллегорическое название периода без войн и вторжений в Московское княжество**), которая была прервана лишь в 1368 году вторжением армии правителя (**6 – название страны**) по имени (**7 – имя**). Он совершил ещё 2 два похода на Москву, однако они были безуспешны, во многом и потому, что в правление московского князя в (**8**) году был выстроен вместо дубового Кремля новый – (**9 – определение, связанное с материалом постройки**).

Однако наиболее серьёзные деяния ждали князя в 1370-е годы. Отказавшись в (**10**) году платить дань Орде, московский князь автоматически становился её противником. Вскоре крупная битва между Москвой и Ордой произошла на территории (**11 – название**) княжества в 1377 году на реке (**12 – название реки**). И хотя войска московского князя были разбиты, спустя некоторое время в (**13**) году на реке (**14 – название реки**) была одержана первая серьёзная победа над ордынцами, реванш за прошлые поражения.

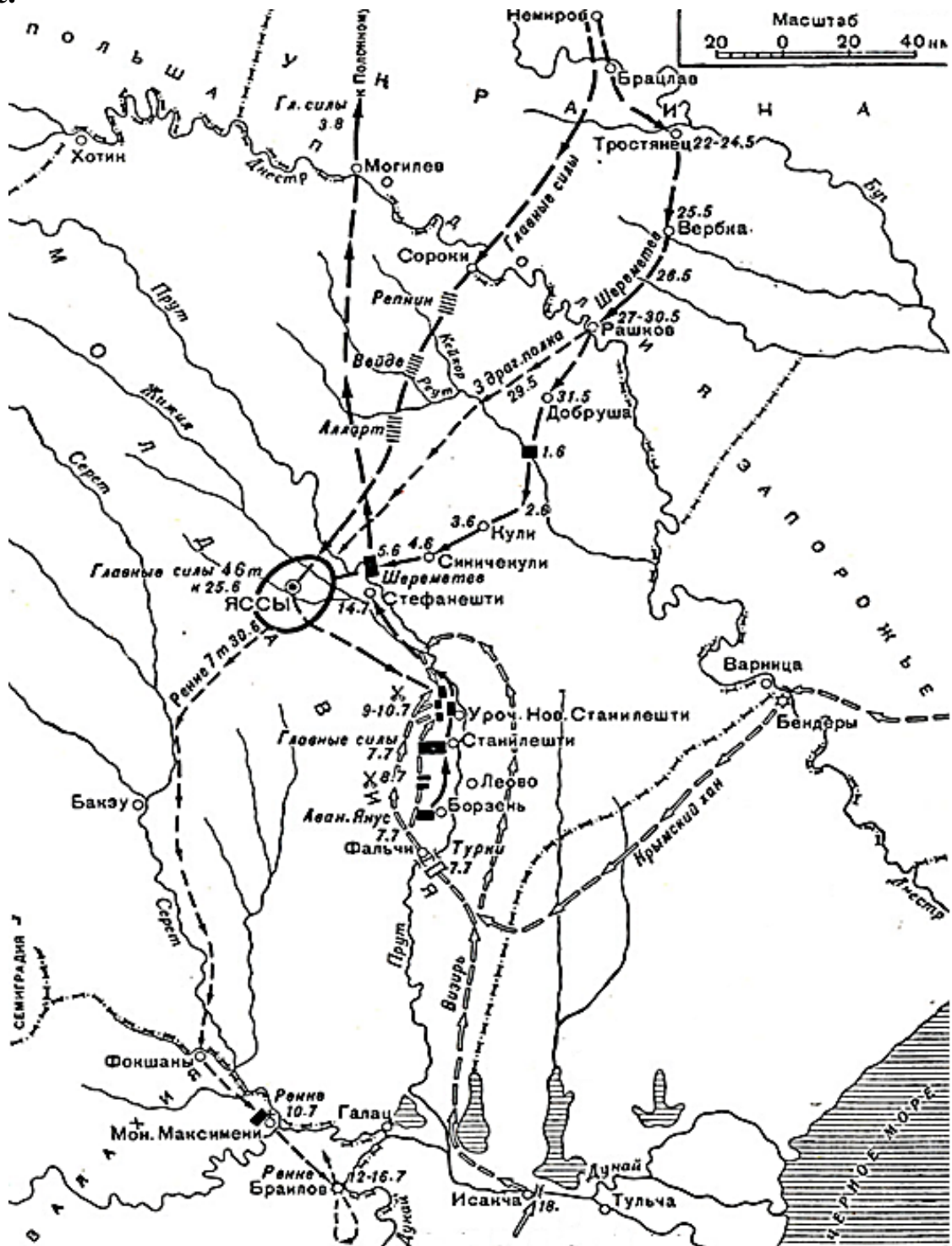
После поражения на реке (**14**) правитель Золотой Орды темник (**15 – имя**) начал собирать силы для полномасштабного наступления на Северо-Восточную Русь...

Список для пропусков №1,2,3,4,7,15	Список для пропусков № 5,6,9,11,12,14	Список для пропусков № 8,10,13.
Алексий	Белокаменный	1359
Батый	Вожа	1367
Витовт	Ворскла	1374

Пригласительный школьный этап Всероссийской олимпиады школьников.
История. 2020 г. 9 класс

Даниил Александрович	Галицко-Волынское	1375
Даниил Галицкий	Земляной	1378
Дмитрий	Клязьма	1380
Иван Калита	Краснокаменный	1392
Иван Красный	Литва	
Мамай	Муромское	
Ольгерд	Польша	
Симеон Гордый	Пьяна	
	Суздальско-Нижегородское	
	Тверское	
	Тишина Великая	
	Угра	

25-28. Внимательно рассмотрите карту и выполните задания, предложенные ниже.



25. Напишите **ОДНИМ СЛОВОМ** название похода русских войск, события которого обозначены на карте.

Внимание! Ответы с орфографическими ошибками не засчитываются.

26. Укажите год, когда он произошёл.

Ответ запишите в виде четырехзначного числа БЕЗ букв, пробелов и знаков препинания.

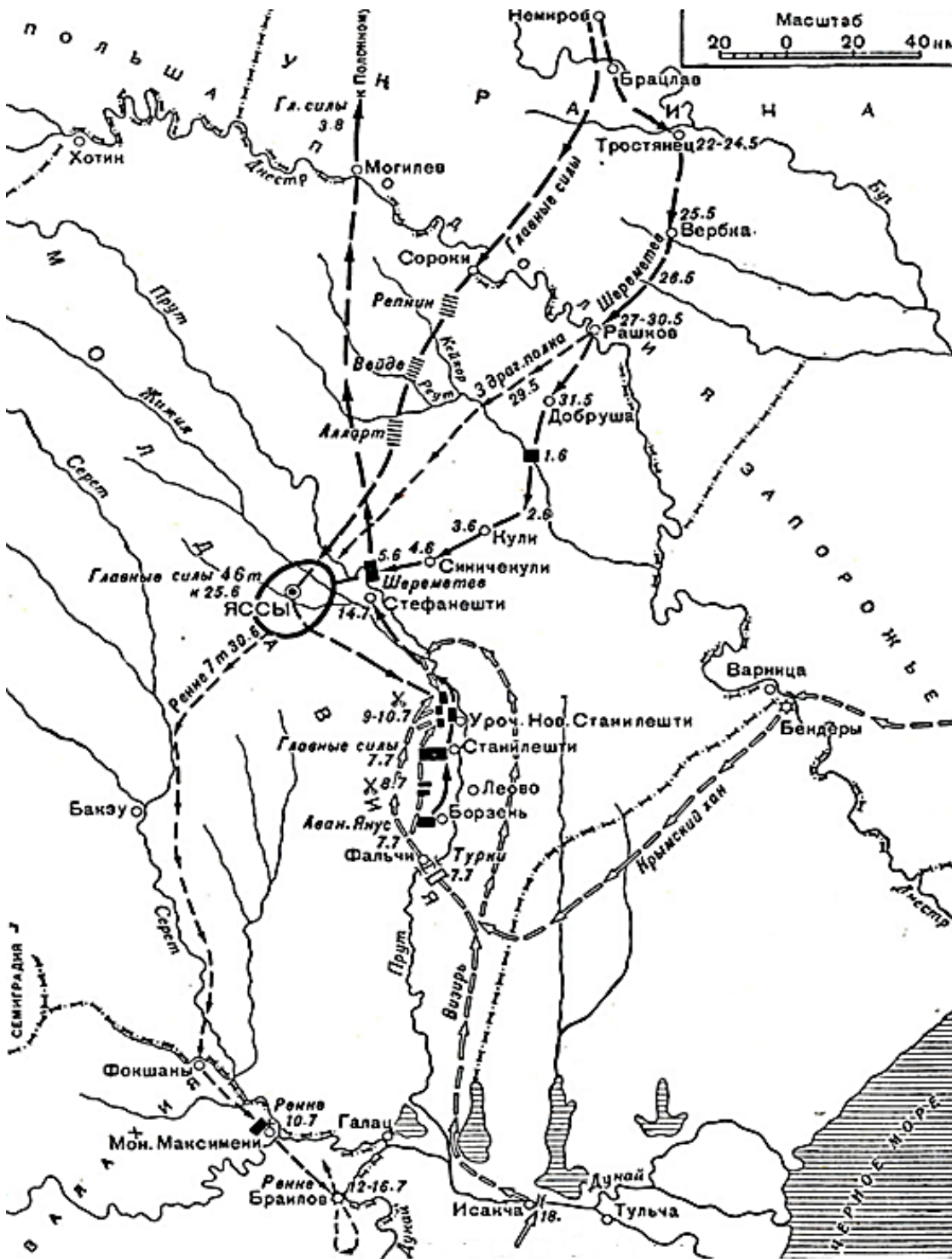
27. Укажите ИМЯ И ОТЧЕСТВО русского царя, находившегося с армией в этом походе.

Внимание! Ответы с орфографическими ошибками не засчитываются.

28. Назовите воинский чин полководца, движение войск под командованием которого через населённые пункты Тростянец – Добруша обозначено чёрными стрелками.

Внимание! Ответы с орфографическими ошибками не засчитываются.

29-33. Верны ли следующие утверждения? Если утверждение является верным, выберите «да», а если оно является неверным, выберите «нет».



- А) Незадолго до этого похода русский правитель перенёс столицу в новый город.
- Б) Итогом похода, события которого обозначены на карте, стала победа русских войск.

- В) На карте обозначен город, в котором впоследствии был подписан мир с государством, войска которого противостояли русским войскам в походе, обозначенном на карте.
- Г) На территории государства, в ходе войны России с которым произошли события, отраженные на карте, в этот момент находился правитель другого государства, с которым Россия также была в состоянии войны.
- Д) По распространённой легенде, при заключении перемирия между враждующими сторонами значимую роль сыграли драгоценности будущей жены русского царя.

34-40. Перед вами картины на историческую тематику. Укажите годы, когда произошли эти события.

*Внимание! Запишите годы четырьмя цифрами **БЕЗ** букв, пробелов и знаков препинания.*





2



3




4



5



6



7

41-42. Перед вами фрагменты сообщений ответственного ведомства при Совете Народных Комиссаров СССР, которое в годы Великой Отечественной войны занималось составлением информационных сводок для радио, газет и журналов.

Внимание! Ответы с орфографическими ошибками не засчитываются.

41. Напишите название ведомства **ОДНИМ СЛОВОМ**.

42. Установите соответствие приведённых фрагментов датам, в которые произошли описанные в них события.

- А. Войска 1-го Белорусского фронта под командованием Маршала Советского Союза Жукова, при содействии войск 1-го Украинского фронта под командованием Маршала Советского Союза Конева, после упорных уличных боёв завершили разгром Берлинской группы немецких войск и сегодня... полностью овладели столицей Германии городом Берлин, центром немецкого империализма и очагом немецкой агрессии.
- Б. ...Наши войска после ожесточённых уличных боёв овладели городом и железнодорожным узлом Орёл. Северо-западнее, южнее и юго-западнее Орла наши войска за день боёв заняли свыше 30 населённых пунктов. Того же [дня] наши наступающие войска после упорных боёв овладели городом Белгород.
- В. ...В ходе боёв за подступы к Вене и за город Вену с 16 марта по... войска фронта разгромили одиннадцать танковых дивизий немцев, в том числе 6-ю танковую армию СС, взяли в плен более 130 000 солдат и офицеров противника, уничтожили и захватили 1 345 танков и самоходных орудий, 2 250 полевых орудий и много другого военного имущества.
- Г. ... В результате упорных и ожесточённых боёв за период в... дней немцы потеряли не менее 2 500 танков, около 1 500 самолётов, более 30 000 пленными. За тот же период мы потеряли: 850 самолётов, до 900 танков, до 15 000 пропавшими без вести и пленными. Такова картина действительного положения на фронте, которую мы с полным основанием противопоставляем хвастливым сообщениям германского радио. Итоги первых... дней войны позволяют сделать следующие выводы: молниеносная победа, на которую рассчитывало немецкое командование, провалилась...
- Д. На днях наши войска, расположенные на подступах Сталинграда, перешли в наступление против немецко-фашистских войск. Наступление началось в двух направлениях: с северо-запада и с юга от Сталинграда... Захвачено за три дня боёв 13 000 пленных и 360 орудий.
- Е. Сегодня в шесть часов тридцать минут по радио выступил Председатель Государственного Комитета Обороны И. В. Сталин, призвавший народы Советского Союза, нашу доблестную Красную Армию и Военно-Морской

Флот, наших лётчиков-соколов к самоотверженной отечественной освободительной войне против фашистских поработителей, к полному разгрому врага, к победе. Призыв вождя народов товарища Сталина вызвал величайший подъём среди рабочих, крестьян, интеллигенции, невиданное воодушевление и волю к победе над немецко-фашистскими ордами над лютыми, коварными и жестокими врагами нашей Родины и всего передового человечества. В городах, на фабриках, железных дорогах, в советских учреждениях с энтузиазмом подхвачен призыв вождя.

Ж. Войска Волховского фронта в результате умелого обходного манёвра... штурмом овладели городом Новгород. Продолжая развивать наступление, войска фронта... вели успешные бои по ликвидации окружённых частей противника в лесах западнее Новгорода.

Итого 58 баллов.