



ВСЕРОССИЙСКАЯ ОЛИМПИАДА ШКОЛЬНИКОВ
ПО ИСТОРИИ. 2018–2019 уч. г.
МУНИЦИПАЛЬНЫЙ ЭТАП. 8 КЛАСС

В заданиях 1–3 дайте один верный ответ. Ответы внесите в таблицу в бланке работы.

1. Прочитайте отрывок из исторического источника и укажите исторического деятеля, от имени которого он создан.

«Приказываю сыном своим очину свою Москву. А се есмь им роздел учинил: се дал есмь сыну своему болшему Семёну: Можаяск, Коломьну со всеми Коломенскими волостми, Городенку, Мезыню, Песочну, Похряне, Усть-Мерьску, Брошевую, Гвоздну...»


- 1) Даниил Московский
- 2) Иван Калита
- 3) Иван Красный
- 4) Василий I

2. Прочитайте отрывок из исторического источника и укажите год подписания договора, условия которого перечислены в отрывке.

«...Его королевское величество могло бы добавить москвиту Великие Луки с крепостями Холм, Остров, Красный Городок, Воронеч, Велью, чтобы эти крепости вместе с Великими Луками были отданы ему, а в руках короля должна остаться вся Ливония с Новгородком, Сыренском, Лайсом и сверх того с крепостями: Заволочье, Невель, Велиж, а Себеж должен быть передан или уничтожен...»

- 1) 1537
- 2) 1582
- 3) 1583
- 4) 1617

Не забудьте перенести Ваши ответы в бланк работы!



3. Прочитайте отрывок из исторического источника и укажите исторического деятеля, названного в отрывке «царское величество».

«Тогда светлейший князь докладывал **царскому величеству**, что пришли от Шлютембурга 2 шнявы и яхта и поздравляют его царское величество с царствующим градом и новым домом. Хотя царскому величеству и видимы были из шатра идущие 2 шнявы и яхта, но изволил вытти на берег реки Невы (и изволил говорить: “Генерал губернатор Санкт-петербургской, светлейший князь Александр Данилович, много доволен я вашею службою”) и, сев в шлюпку, изволил шествовать на пришедшие шнявы и яхту, и з двумя шнявами, которыя взяты были на взморье майя б...»

- 1) Пётр Первый
- 2) Пётр Третий
- 3) Алексей Михайлович
- 4) Павел Первый

Максимум 6 баллов за задания 1–3.

В заданиях 4 и 5 выберите несколько верных ответов из предложенных. Ответы внесите в таблицу в бланке работы.

4. Ниже приведён список названий государств. Укажите те из них, которые существовали в Европе к началу XVIII века.


- 1) Италия
- 2) Ливонский орден
- 3) Священная Римская империя
- 4) Дания
- 5) Германия
- 6) Речь Посполитая

5. Ниже приведён список названий крепостей. Укажите те из них, которые осаждались русскими войсками в XVII веке.

- 1) Чигирин
- 2) Анапа
- 3) Азов
- 4) Измаил
- 5) Смоленск
- 6) Казань

Максимум 6 баллов за задания 4, 5.

Не забудьте перенести Ваши ответы в бланк работы!



6. Перед Вами перечень событий, относящихся к истории трёх различных государств. Укажите названия этих государств, занесите данную информацию в таблицу в бланке работы. Под названиями государств поставьте номера событий, произошедших в их истории.

- 1) нормандское завоевание
- 2) битва при Пуатье с арабами
- 3) заключение Тордесильясского договора с Португалией
- 4) принятие Нантского эдикта
- 5) изгнание морисков
- 6) деятельность кардинала Мазарини
- 7) казнь короля Карла I
- 8) завоевание Мексики
- 9) принятие Великой хартии вольностей

Максимум за задание – 12 баллов.

7. Дайте краткое обоснование ряда (что объединяет перечисленные элементы с исторической точки зрения) и укажите, какой из элементов является лишним по данному основанию.

7.1. 1618, 1661, 1667, 1686.

7.2. А.Л. Ордин-Нащокин, Б.И. Морозов, А.С. Матвеев, Авраамий Палицын.

Максимум за задание – 8 баллов.


8. Что с исторической точки зрения объединяет перечисленные в ряду элементы? Дайте максимально точный ответ.

8.1. Лувр, Хофбург, Букингемский дворец, Зимний дворец.

8.2. Мария Темрюковна, Марфа Собакина, Анна Колтовская, Анастасия Захарьина.

Максимум за задание – 6 баллов.

Не забудьте перенести Ваши ответы в бланк работы!



9. Установите соответствие между событиями (процессами) отечественной и зарубежной истории, произошедшими в одном том же веке. Запишите выбранные цифры под соответствующими буквами в таблицу в бланке работы.

**СОБЫТИЯ ОТЕЧЕСТВЕННОЙ
ИСТОРИИ**

- А) феодальная война в Московском княжестве
- Б) перенос митрополичьей кафедры из Владимира в Москву
- В) Дюденева рать
- Г) издание Иваном Фёдоровым первой печатной книги

**СОБЫТИЯ ЗАРУБЕЖНОЙ
ИСТОРИИ**

- 1) крестовый поход против Альбигойцев
- 2) Аугсбургский религиозный мир
- 3) казнь Жанны д'Арк
- 4) начало Столетней войны
- 5) «Хождение в Каноссу»

Максимум за задание – 4 балла.

10. Установите соответствие между событиями в области науки и культуры и правителями, в период правления которых они произошли. Запишите выбранные цифры под соответствующими буквами в таблицу в бланке работы.

СОБЫТИЯ


- А) издание первой печатной книги
- Б) запрет на строительство шатровых храмов
- В) открытие Славяно-Греко-Латинской академии
- Г) появление первой рукописной газеты «Вести-Куранты»

ПРАВИТЕЛИ

- 1) Алексей Михайлович
- 2) Михаил Фёдорович
- 3) Иван IV Грозный
- 4) Иван III
- 5) Софья Алексеевна

Максимум за задание – 4 балла.

Не забудьте перенести Ваши ответы в бланк работы!




11. Прочитайте цитаты из комедии в стихах «Горе от ума» А.С. Грибоедова и укажите значение выделенных слов и словосочетаний в значении, в котором их употребил автор.

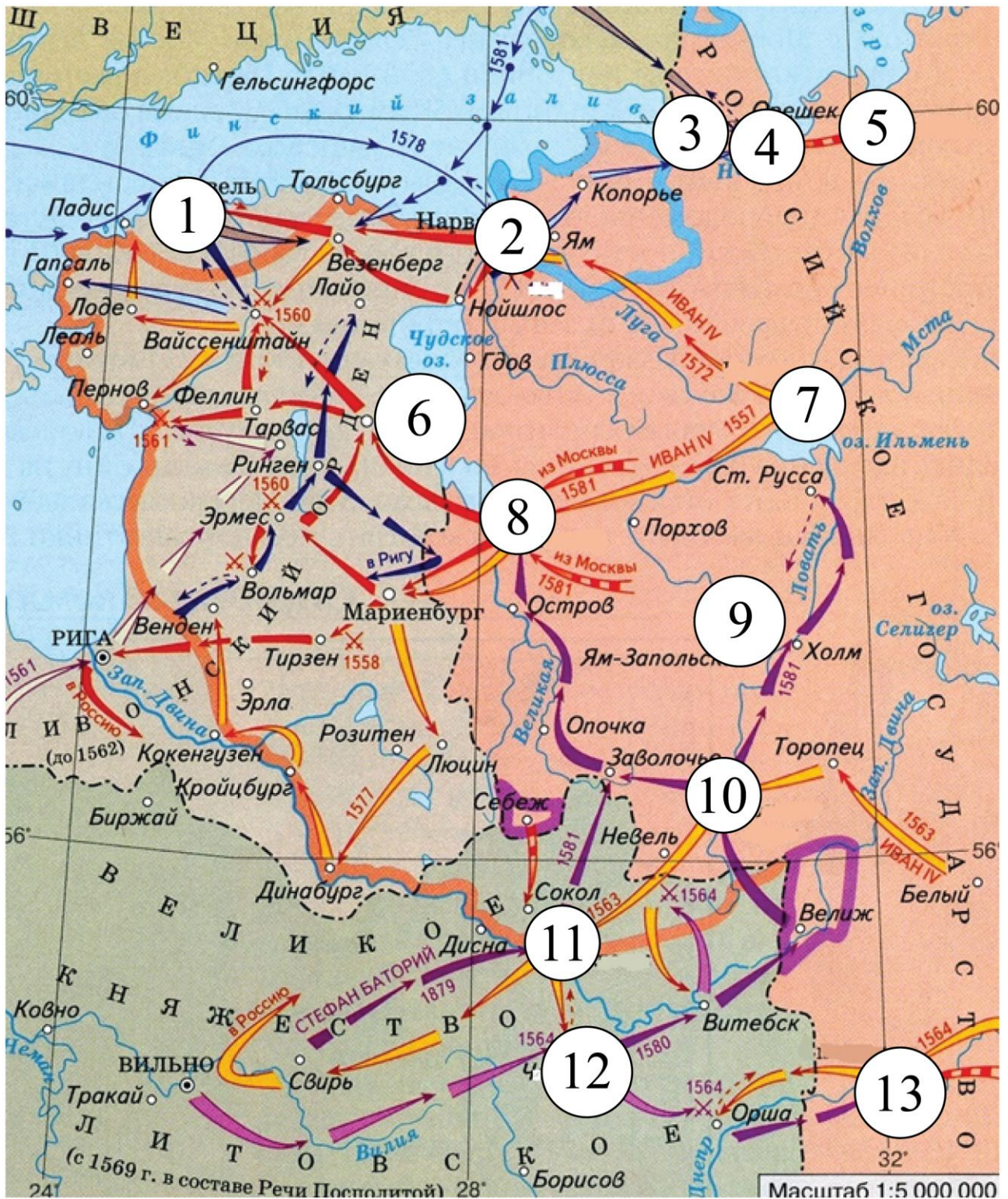
Ну что ваш батюшка? всё Английского клоба (1) Старинный, верный член до гроба?
Покойник был почтенный камергер (2) , С ключом (3) , и сыну ключ умел доставить...
Весь в орденах; езжал-то вечно цугом (4) .
Век при дворе, да при каком дворе! Тогда не то, что ныне, При государыне служил Екатерине. А в те поры все важны! в сорок пуд... Раскланяйся – тупеем (5) не кивнут.
На куртаге (6) ему случилось обступиться; Упал, да так, что чуть затылка не пришиб...
А наши старички?? – Как их возьмёт задор, Засудят об делах, что слово – приговор, – Ведь столбовые (7) всё, в ус никого не дуют...
Хрипун, удушенник, фагот, Созвездие манёвров и мазурки (8) !
Безродного пригрел и ввёл в моё семейство, Дал чин ассессора (9) и взял в секретари...
А тётушка? всё девушкой, Минервой? Всё фрейлиной (10) Екатерины Первой?

Максимум за задание – 10 баллов.

Не забудьте перенести Ваши ответы в бланк работы!



12. Внимательно рассмотрите схему и выполните предложенные задания.



12.1. Заполните пропуски в предложениях. Ответы внесите в таблицу в бланке работы.


1. На схеме отображены события _____ войны.
2. Цифрой __ на схеме обозначено место, где произошло наиболее тяжёлое поражение русских войск в войне, события которой обозначены на схеме.
3. Цифрой __ на схеме обозначен город, невыплата дани за который послужила поводом к началу войны.
4. Цифрой __ обозначен русский город, выдержавший длительную осаду в годы войны, события которой обозначены на схеме, однако не сдавшийся врагу.
5. Цифрой __ обозначен город, в походе на который в ходе войны, события которой обозначены на схеме, участвовал лично русский монарх.
6. Напротив города, обозначенного цифрой __, была построена крепость в период правления деда российского правителя, при котором велась война, события которой обозначены на схеме.

12.2. Установите истинность или ложность суждения. Обозначьте «да» истинные суждения; «нет» – ложные суждения. Ответы внесите в таблицу на бланке работы.

1. Цифрой «13» на схеме обозначен город, находившийся с 1404 года в составе Великого княжества Литовского.
2. В городе, обозначенном на схеме цифрой «8», располагается памятник «1000-летие России».
3. Крепость, обозначенная на схеме цифрой «1», вошла в состав России при Екатерине II.
4. Крепость, обозначенная на схеме цифрой «4», также известна как «Шлиссельбург» или «Ключ-город».
5. Город, обозначенный на схеме цифрой «10», в настоящее время носит статус Города воинской славы.
6. В городе, обозначенном цифрой «9», был подписан мирный договор со Швецией по итогам войны, события которой обозначены на схеме.
7. Город, обозначенный на схеме цифрой «7», был razoren опричными войсками в 1570 году.

Максимум за задание – 13 баллов.

Не забудьте перенести Ваши ответы в бланк работы!




13. Перед Вами изображения, посвящённые различным событиям в истории России. Заполните таблицу в бланке работы: во вторую колонку таблицы запишите название события, изображённого на картине, в третью колонку таблицы запишите год, когда это событие произошло.


А)



Б)




В)



Г)



Д)



Е)



Максимум за задание – 12 баллов.

14. Внимательно изучите представленный ниже отрывок из летописной повести и выполните задания.

«...Сей Митяй саном был поп, словесами речист, и по всему нарочит бо, и того ради избран был изволением великого князя Дмитрия Ивановича в печатники, и был Митяй отец духовный великому князю и всем боярам старейшим, и пребыл в таком чину и в таковом устроении многие лета, пока не состарился старец Иван, архимандрит Старицкий, <...> И вскоре [приведён] был прежереченный Митяй на пострижение, приведён был в церковь святого Спаса чернецы, но не токмо в чернецы, но и в архимандриты, и видевшие это много дивились иже до обеда белец, а по обеду архимандрит, иже до обеда белец и мирянин, а по обеду монахам начальник и старцам старейшина и начальник и учитель и вождь и пастух. И пробыл Митяй в архимандритах два года, а по преставлению митрополита покинул архимандритскую кафедру по великому князю слову и на пребольший сан устремился, и на превысокий степень старейшинства, на двор митрополичий взошёл и там жил, получая со всякой области, елико довлеет и достойно митрополиту владеть. Но ещё дотоле, прежде даже не пойдя к Царюграду, захотел без митрополита поставитися в Епископы. Это же умыслив, в один из дней обратился Митяй к князю великому, глаголя: “ныне да повелит держава твоя, чтобы сошлись со всех Русских епархий епископы да мя поставят епископом”. По повелению же князьему собрались епископы, ни един же от них не дерзнул супротив Митяя, но токмо Дионисий, епископ Суздальский, поспорил с князем великим, говоря: “не подобает тому так быть”. Митяй же, видя себя осрамленным, же осуди яко



виноватого Дионисия, говорил: “не подобает тебе, о епископ, придя во град прежде всех, ко мне не прийти, не поклониться мне, не испрося благословения у меня, не чтя меня! [Не знаешь ли ты, кто я?] Власть имаю во всей митрополии”. Дионисий же отвечал: “не имеешь на меня власти. Тебе подобает паче прийти ко мне и благословиться и пред мною наклониться: ведь я епископ, ты же поп. Кто у тебя более есть, епископ ли, поп ли?”»

14.1. Укажите период, когда происходят события, описанные в тексте. Дайте ответ с точностью до двух смежных десятилетий.

14.2. Какова роль князя Дмитрия Ивановича в описываемых событиях? Приведите три положения.

14.3. Назовите митрополита всея Руси, о смерти которого идёт речь в приведённом отрывке.

14.4. Объясните значение слова «архимандрит». Как автор отрывка характеризует получение Митяем чина архимандрита?

14.5. Почему епископ Дионисий Суздальский отказался просить благословения у Митяя? Почему данный поступок Дионисия можно считать мужественным? Как автор подчёркивает мужество Дионисия? Приведите цитату из текста.

Максимум за задание – 19 баллов.

Максимум за работу – 100 баллов.

