

Инструкция по заполнению листа ответов тестового тура

- Листы с тестовыми заданиями остаются у участников, их можно использовать в качестве черновиков.
- В листе ответов каждому из 30 вопросов соответствуют четыре варианта ответа. Они обозначены буквами А–Г. Необходимо выбрать **ТОЛЬКО ОДИН** вариант ответа, который вы считаете правильным, и обвести его на листе для ответа. Для этого следует использовать авторучку, обводить ответы карандашом нельзя.
- Исправления в листе ответов **НЕДОПУСТИМЫ**. Ответы, где есть исправления, обведено несколько вариантов ответа, или не обведён ни один вариант, не рассматриваются и не оцениваются.
- За правильный ответ на один вопрос начисляется **1 балл**, максимальная оценка – **30 баллов**.

1. Какой вид изолиний изображён на карте Черного моря на рисунке 1?

- А. Изобата. Б. Изогалина. В. Изопора. Г. Изотаха.

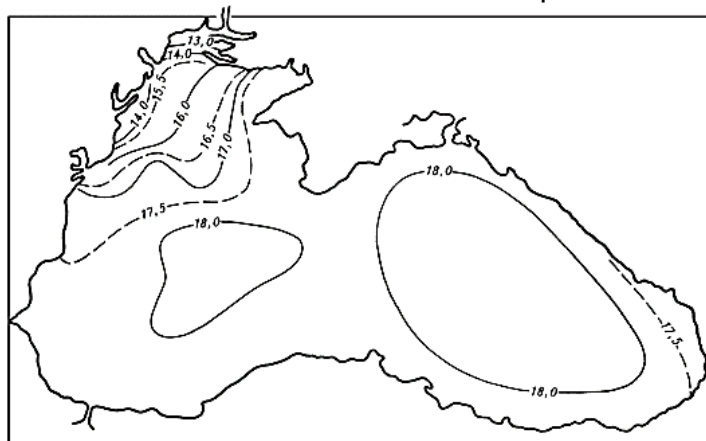


Рисунок 1. Карта Черного моря. Лето.

2. На территории какой страны находится исток реки Инд?

- А. Бангладеш. Б. Индия. В. Китай. Г. Пакистан.

3. Какая из перечисленных статей российского экспорта по стоимости даёт меньше каждой из трёх остальных?

- А. Железная руда.
 Б. Строительные материалы.
 В. Углеводородное сырьё.
 Г. Химические и минеральные удобрения.

4. Из какой страны, чтобы добраться до океана, нужно пересечь не менее двух других государств?

- А. Киргизия. В. Таджикистан.
 Б. Руанда. Г. Узбекистан.

5. В каком городе разница между средней температурой января и июля меньше, чем в каждом из трёх остальных?

- А. Архангельск. В. Рейкьявик.
 Б. Осло. Г. Санкт-Петербург.

6. Берега какого пролива соединены мостом?

- А. Джохорский. В. Лусонский.
 Б. Каримата. Г. Цугару.

7. Какая страна по форме государственного устройства НЕ является федерацией?

- А. Австрия. Б. Венесуэла. В. Индонезия. Г. Эфиопия.

8. Выберите верное утверждение, характеризующее портоланы (портуланы) — морские карты XIII–XVII веков (рис.2).

- А. Для их построения использовалась азимутальная проекция.
 Б. На них изображались параллели и меридианы.
 В. Изображения объектов береговой линии на них часто преувеличены.
 Г. Они всегда ориентированы на север.



Рисунок 2. Фрагмент портолана.

9. На территории какого современного государства находилась в конце XVII века единственная колония Шотландии в Латинской Америке?

- А. Гондурас. Б. Панама. В. Парагвай. Г. Эквадор.

10. Какова максимальная полуденная высота Солнца над горизонтом в границах России?

- А. $49^{\circ}11'$ Б. $70^{\circ}00'$ В. $72^{\circ}15'$ Г. $81^{\circ}30'$

11. Если местное солнечное время в Казани 12 часов, сколько времени в Лондоне?

- А. 7 часов 32 минуты. В. 9 часов.
 Б. 8 часов 44 минуты. Г. 10 часов 16 минут.

12. Кто из ученых в своем труде «О воздухах, водах и местностях» обосновывал связь здоровья, быта и характера народов со средой обитания?

- А. Аристотель. Б. Гиппократ. В. Страбон. Г. Эратосфен.

13. Какое природное явление наблюдается в тропических береговых пустынях?

- А. Гарига. Б. Гаруа. В. Марь. Г. Бора.

14. Каким термином обозначают тип елового леса на суглинистых, хорошо дренированных почвах?

- А. Байрак. Б. Засака. В. Левада. Г. Рамень.

15. Какой город согласно результатам переписи 1897 года был третьим по численности населения в пределах современной территории России?

- А. Воронеж. В. Саратов.
 Б. Нижний Новгород. Г. Ярославль.

16. Какой из четырёх населенных пунктов с момента получения статуса города был официально переименован наименьшее число раз?

- А. Днепр. В. Рыбинск.
 Б. Нур-Султан. Г. Санкт-Петербург.

17. Какая характеристика лесного древостоя указывается на топографических картах?

- А. Среднее расстояние между деревьями.
- Б. Средний возраст деревьев.
- В. Средний диаметр кроны.
- Г. Среднее число ярусов растительности.

18. В каком из перечисленных субъектов Российской Федерации доля орошаемых земель в структуре пашни наибольшая?

- А. Республика Дагестан.
- Б. Республика Калмыкия.
- В. Республика Карачаево-Черкесия.
- Г. Ростовская область.

19. Какой показатель изображён на рисунке 3 изолиниями с послышной окраской на карте?

- А. Бонитет почв.
- Б. Интенсивность оврагообразования.
- В. Плотность сельских населённых пунктов.
- Г. Продуктивность биомассы.

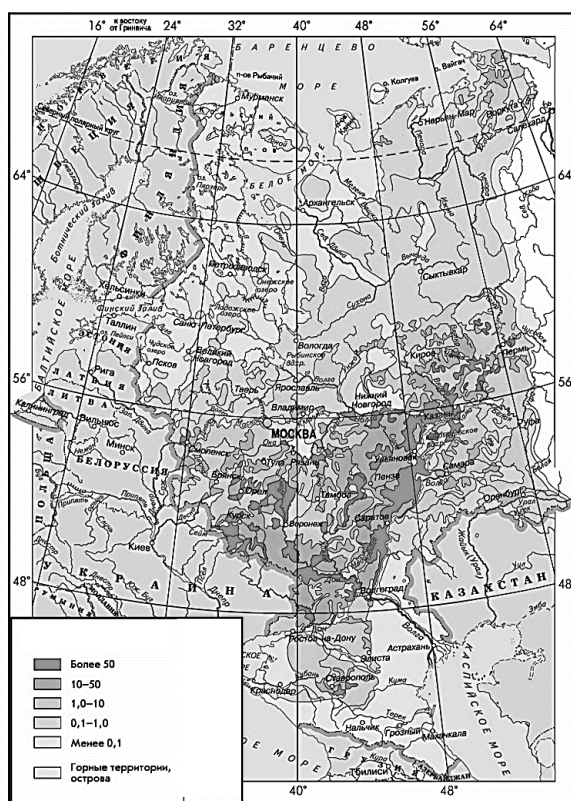


Рисунок 3.

20. Этот город основан в 1137 году. Он расположен на Северо-Двинском водном пути и разбогател благодаря торговле и солеварению. В XVII веке отсюда снаряжались морские экспедиции. О каком городе идёт речь?

- А. Гатчина.
- Б. Дербент.
- В. Тотьма.
- Г. Углич

21. Какой тоннель расположен на Транссибирской магистрали?

- А. Байкальский.
- Б. Кодарский.
- В. Кипарисовский.
- Г. Северомуйский.

22. В какой стране отсутствует современное горное оледенение?

- А. Грузия.
- Б. Монголия.
- В. Туркмения.
- Г. Узбекистан.

23. Сколько снега нужно убрать с 1 гектара городской территории, если выпало 120 мм, а плотность слоя равна 0,4 т/м³?

- А. 0,3 тонны Б. 3 тонны В. 30 тонны Г. 300 тонны

24. Какой архипелаг НЕ посещал Чарльз Дарвин во время кругосветного путешествия на корабле «Бигль»?

- А. Галапагосские острова. В. Марианские острова.
Б. Зеленого Мыса острова. Г. Фолклендские острова.

25. Между какими городами на Волге нет ни одного шлюза?

- А. Казань и Ульяновск. В. Самара и Саратов.
Б. Кострома и Нижний Новгород. Г. Тверь и Ярославль.

26. В каком городе расположена самая высокая «падающая» башня?

- А. Болонья. Б. Делфт. В. Казань. Г. Невьянск.

27. Планировочная структура какого города показана на рисунке 4?

- А. Афины. Б. Вашингтон. В. Оттава. Г. Рим.

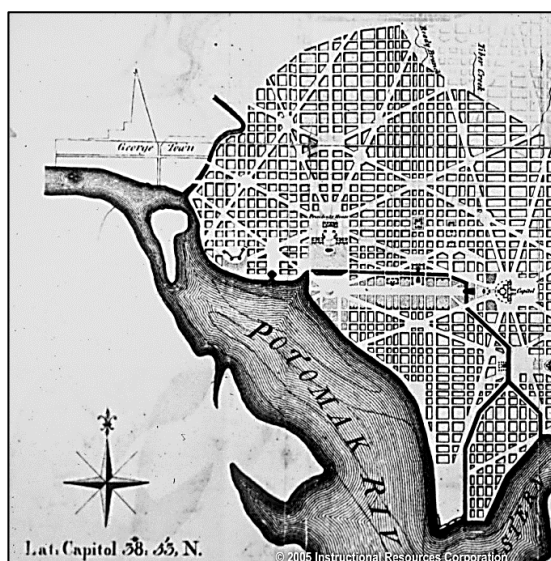


Рисунок 4.

28. Какие три сельскохозяйственных культуры распространились из Восточно-Азиатского (Китайского) центра происхождения культурных растений?

- А. Лён, пайза, дайкон. В. Сорго, огурец, ямс.
Б. Рис, чай, тефф. Г. Чумиза, соя, мандарин.

29. В каком из перечисленных населенных пунктов среднее годовое число дней с туманами наибольшее?

- А. Диксон. Б. Мурманск. В. Ханты-Мансийск. Г. Якутск.

30. Национальный авиаперевозчик какой страны использует для своих самолётов оформление, фрагмент которого изображён на рисунке 5?

- А. Гватемала. В. Папуа – Новая Гвинея.
Б. Новая Зеландия. Г. Филиппины.




Рисунок 5.