

ВСЕРОССИЙСКАЯ ОЛИМПИАДА ШКОЛЬНИКОВ  
ПО ИСТОРИИ 2016–2017 уч. г.  
МУНИЦИПАЛЬНЫЙ ЭТАП

7 класс

*В заданиях 1–3 дайте один верный ответ. Ответ внесите в таблицу в бланке работы.*

**1.** Кто является автором данных воспоминаний?

«Лаура, славная собственными добродетелями и долго воспеваемая моими стихами, впервые предстала моим глазам в раннюю пору моей юности, в лето Господне 1327-е, в день 6-й месяца апреля, в церкви Святой Клары в Авиньоне, в час утренний; и в том же городе, в том же месяце апреле, в тот же шестой день, в тот же первый час, лето же в 1348-е у сего света свет оный был отнят, когда я случайно был в Вероне, увы!»

- |                      |                       |
|----------------------|-----------------------|
| 1) Данте Алигьери    | 3) Франческо Петрарка |
| 2) Джованни Боккаччо | 4) Франсуа Рабле      |

**2.** В каком году, согласно летосчислению от сотворения мира, был издан документ, отрывок из которого дан ниже?

«По Ярославѣ же паки совкупившеся сынове его, Изяславъ, Святославъ, Всеволодъ, и мужи ихъ, Коснячъко, Перенѣгъ, Никифоръ, и отложиша убиение за голову, но кунами ся выкупати; а ино все, якоже Ярославъ судиль, такоже и сынове его оставиша».


- |            |            |
|------------|------------|
| 1) 6524 г. | 3) 6621 г. |
| 2) 6580 г. | 4) 6980 г. |

**3.** В правление какого короля был подписан документ, фрагмент которого приведён ниже?

«... да будет властью настоящего парламента установлено, что король, наш верховный государь, его наследники и преемники, короли этого королевства, должен быть принимаем, признаваем, почитаем единственным на свете верховным главой церкви Англии, называемой Ecclesia Anglicane».

- |               |                |
|---------------|----------------|
| 1) Эдуард VI  | 3) Генрих VIII |
| 2) Генрих VII | 4) Ричард III  |

**Всего 6 баллов за задания 1–3.**



**В заданиях 4 и 5 выберите несколько верных ответов из предложенных.  
Ответы внесите в таблицу в бланке работы.**

**4.** Какие из представленных топонимов имеют финно-угорское происхождение?

- |           |          |
|-----------|----------|
| 1) Днепр  | 4) Двина |
| 2) Ока    | 5) Яуза  |
| 3) Вязьма | 6) Волга |

**5.** Какие из перечисленных городов были разорены монголами в ходе похода на Русь 1237–1238 гг.?


- |                        |                     |
|------------------------|---------------------|
| 1) Владимир-на-Клязьме | 4) Киев             |
| 2) Козельск            | 5) Великий Новгород |
| 3) Псков               | 6) Тверь            |

**Всего 6 баллов за задания 4, 5.**

**6.** Перед Вами список событий, произошедших в правления трёх различных русских князей. Запишите в верхнюю строку таблицы в бланке работы имена князей, а в нижнюю – порядковые номера соответствующих каждому князю событий.

- 1) строительство Дмитриевского собора во Владимире
- 2) народное восстание в Киеве
- 3) строительство первоначального Благовещенского собора в Московском Кремле
- 4) присоединение Нижегородского и Муромского княжеств к Москве
- 5) русско-византийская война
- 6) поход Едигея на Москву
- 7) поход Игоря Святославовича против половцев
- 8) издание «Устава о резах»
- 9) Липицкая битва

**Всего 12 баллов.**



7. Дайте краткое обоснование ряда (что объединяет перечисленные элементы) и укажите, какой из элементов является лишним по данному основанию.

7.1.

А) Церковь Спаса Преображения на Ильине улице	Б) Церковь Фёдора Стратилата на Ручью
	
В) Церковь Бориса и Глеба в Кидекше	Г) Церковь Успения на Волотовом поле
	



Д) Церковь Спаса на Нередице



7.2. 1146–1154, 1263–1303, 1325–1340, 1353–1359.

**Всего 10 баллов.**

8. По какому принципу образованы ряды? Дайте максимально точный ответ.

8.1. Кривичи, северяне, ильменские словене, дреговичи.

8.2. Пищаль, мушкет, кулеврина, аркебуза.

**Всего 8 баллов.**

9. Расположите события в хронологической последовательности. Ответы внесите в таблицу в бланке работы.

А) возвращение Марко Поло в Венецию

Б) антиордынское восстание в Твери

В) завоевание Ольгердом Брянска

Г) смерть Александра Невского

Д) обнародование «95 тезисов» Мартином Лютером

Е) начало войны Алой и Белой розы

**Всего 5 баллов.**



**10.** Расположите события в хронологической последовательности. Ответы внесите в таблицу в бланке работы.


- А) поход Дмитрия Донского на Тверь
- Б) смерть Сергия Радонежского
- В) битва при Азенкуре
- Г) Кревская уния
- Д) разгром ордена тамплиеров
- Е) первое путешествие Христофора Колумба

**Всего 5 баллов.**

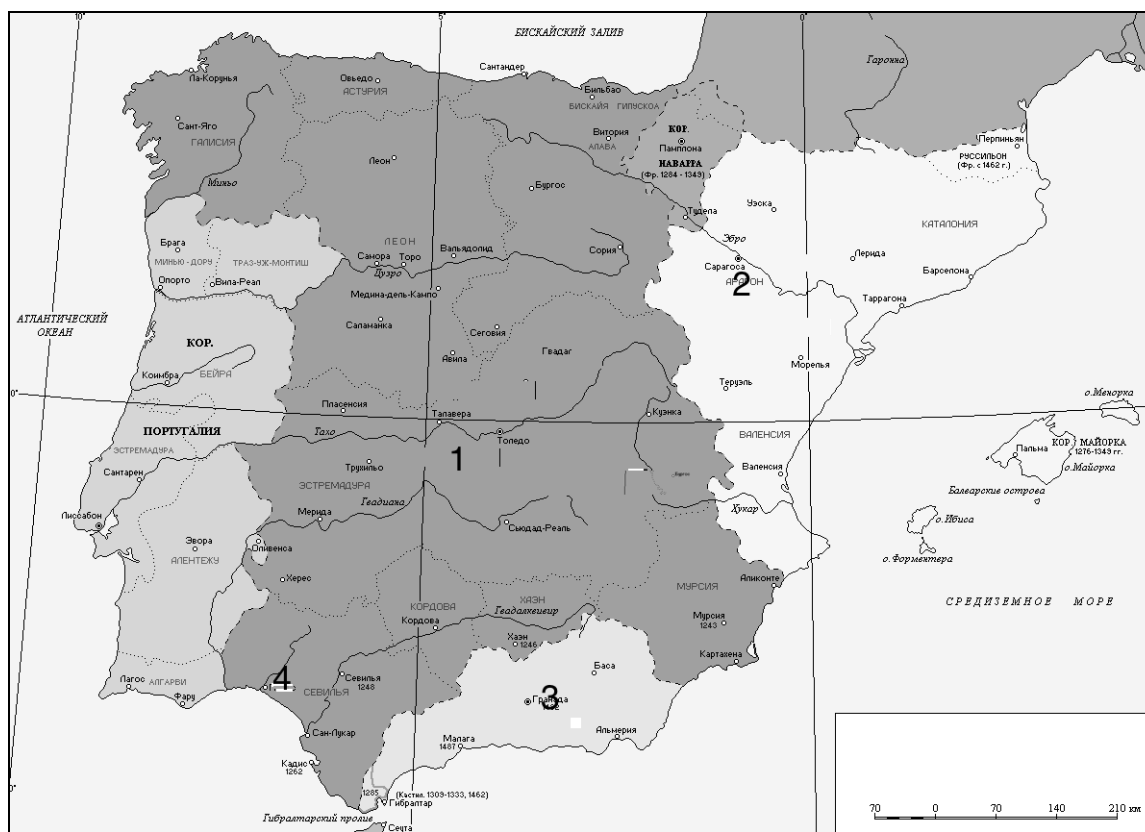
**11.** Определите пропущенные в тексте названия, слова, имена, даты, обозначенные порядковыми номерами. При необходимости при порядковых номерах даются пояснения о характере требуемой вставки. Необходимые вставки впишите под соответствующими номерами в таблицу в бланке работы.

В XIV–XV вв. Великое княжество Литовское и Русское было реальным соперником (**1 – название государства**) в борьбе за господство в Восточной Европе. Оно укрепилось при князе (**2 – имя**). При его сыне Ольгерде княжество фактически стало доминирующей державой в регионе. Особенно позиции государства укрепились после того, как в (**3**) году Ольгерд разбил татар в битве при Синих водах. Во время его правления в состав государства входили большая часть нынешней Литвы, Белоруссии, Украины и (**4 – название**) области. Тесть Ольгерда, тверской князь (**5 – имя**), в борьбе с Москвой попросил поддержки у своего зятя. После трёх неудачных походов был заключён мир с московским князем. После смерти Ольгерда в стране началась междоусобица. Престол Великого князя Литовского получил сын от второго брака Ягайло. Андрей, сын от первого брака, поднял мятеж и бежал в Москву, прося там поддержки. Ягайло в борьбе против Андрея обратился за помощью к Ордену, обещая принять (**6 – вероисповедание**). Обеспечив себе надёжный тыл, Ягайло отправился с войском на помощь Мамаю против Дмитрия Донского, надеясь наказать Москву за поддержку Андрея и разделить с князем (**7 – имя**) земли московского княжества. Однако на Куликово поле Ягайло прибыл с опозданием: монголо-татары уже потерпели сокрушительное поражение. В этих условиях Ягайло вынужден был искать поддержки у Польши. В 1385 в (**8 – название**) замке между Великим княжеством Литовским и польским государством была заключена династическая уния. В следующем году Ягайло принял крещение, получив имя Владислав, женился на польской королеве (**9 – имя**) и стал польским королем – основателем династии (**10 – название**), которая правила Польшей и Литвой свыше 200 лет.

**Всего 10 баллов.**




**12.** Внимательно рассмотрите схему и выполните предложенные ниже задания.









1. Назовите государство, территория которого обозначена на схеме цифрой 1.
2. Назовите правителя этого государства, при котором была осуществлена уния с государством, обозначенном на схеме цифрой 2.
3. Назовите государство, обозначенное на схеме цифрой 3.
4. Назовите процесс, в ходе которого государство, обозначенное на схеме цифрой 3, прекратило своё существование. Назовите год, в котором это произошло.
5. Назовите столицу государства, обозначенного на схеме цифрой 1.

**Всего 12 баллов.**




**13.** Внимательно рассмотрите автопортреты художников и их работы и выполните задания. Ответы внесите в таблицу в бланке работы.

А	Б	В
		
1	2	3
		

1. Соотнесите репродукции картин и автопортреты их создателей. Под буквенным обозначением автопортрета художника запишите его имя.
2. Назовите ещё одну любую живописную работу каждого из художников.
3. Укажите, кто из представленных художников был последователем Джироламо Савонаролы.


**Всего 10 баллов.**



**14.** Прочитайте приведённый исторический источник и выполните задания.

«И в тот же день к вечеру те полки от города отошли, а наутро сам царь подступил к городу со всеми силами и со всеми полками своими. Горожане же, со стен городских увидев силы великие, немало уstraшились. И так враги подошли к городским стенам. Горожане же пустили в них по стреле, и они тоже стали стрелять, и летели стрелы их в город, словно дождь из бесчисленных туч, не давая взглянуть. И многие из стоявших на стене и на заборолах, уязвленные стрелами, падали, ведь одолевали вражеские стрелы горожан, ибо были у них стрелки очень искусные. Одни из них стоя стреляли, а другие были обучены стрелять на бегу, иные с коня на полном скаку, и вправо, и влево, а также вперед и назад метко и без промаха стреляли. А некоторые из них, сделав лестницы и приставляя их, влезали на стены. Горожане же воду в котлах кипятили, и лили кипятком на них, и тем сдерживали их. Отходили они и снова приступали. И так в течение трёх дней бились между собой до изнеможения. Когда враги приступали к граду, вплотную подходя к стенам городским, тогда горожане, охраняющие город, сопротивлялись им, обороняясь: одни стреляли стрелами с заборола, другие камнями метали в них, иные же били по ним из тюфяков, а другие стреляли, натянув самострелы, и били из пороков. Были же такие, которые и из самих пушек стреляли. Среди горожан был некий москвич, суконник, по имени Адам, с ворот Фроловских приметивший и облюбовавший одного из врагов, знатного и известного, который был сыном некоего князя ордынского; натянул он самострел и пустил неожиданно стрелу, которой и пронзил его сердце жестокое и скорую смерть ему принес. Даже сам царь тужил о случившемся.

Как же обманули горожан, находившихся в осаде? После того как простоял царь три дня, на четвертый, наутро, в полуденный час, по повелению царя приехали великие князья ордынские и вельможи его. И, подойдя к городу и приблизившись с осторожностью к городским стенам, обратились они к народу, бывшему в городе: “Царь вам, своим людям, хочет оказать милость, потому что неповинны вы и не заслуживаете смерти, ибо не на вас он войной пришел, но на Дмитрия, враждуя, ополчился. Вы же достойны помилования. Ничего иного от вас царь не требует, только выйдите к нему навстречу с почестями и дарами, вместе со своим князем, так как хочет он увидеть город этот, и в него войти, и в нем побывать, а вам дарует мир и любовь свою, а вы ему ворота городские отворите”. Люди городские, поверив словам их, согласились и тем дали себя обмануть, ибо ослепило их зло и помрачило разум их коварство бесерменское; позабыли и не вспомнили сказавшего: “Не всякому духу веруйте”. И отворили ворота городские, и вышли со своим князем с дарами многими к царю, также и архимандриты, игумены и попы с крестами, а за ними бояре и лучшие мужи, и потом народ и черные люди».





1. Назовите год и город, описываемые в тексте.
2. Кто возглавлял войско, осадившее город? Укажите имя и статус.
3. Какими военными преимуществами обладали вражеские воины?
4. Какими способами осаждённые горожане отражали нападение врага?  
Используя текст, назовите четыре способа.
5. Каким образом врагам удалось захватить город?
6. Запишите имя и прозвище князя, правившего в городе. Почему он отсутствовал в городе во время осады его врагом?

**Всего 16 баллов.**

**Всего за работу 100 баллов.**

