

ВСЕРОССИЙСКАЯ ОЛИМПИАДА ШКОЛЬНИКОВ
ПО ИСТОРИИ 2015–2016 уч. г.
МУНИЦИПАЛЬНЫЙ ЭТАП

8 класс

Методика оценивания выполнения олимпиадных заданий

В заданиях 1–3 дайте один верный ответ. Ответ внесите в таблицу в бланке работы.

1. Когда был издан документ, отрывок из которого представлен ниже?
«Кто выше своего ранга будет себе почести требовать, или сам место возьмёт выше данного ему ранга, тому за каждый случай платить штрафу 2 месяца жалованья. А ежели кто без жалованья служит, то платить ему такой штраф, как жалованья тех чинов, которые с ним равного рангу, и действительно жалованье получают».

- | | |
|------------|------------|
| 1) 1703 г. | 3) 1722 г. |
| 2) 1710 г. | 4) 1725 г. |

2. Кто автор документа, отрывок из которого приведен ниже?
«5. Папа не хочет и не может прощать какие-либо наказания, кроме тех, что он наложил либо своей властью, либо по церковному праву.

6. Папа не имеет власти отпустить ни одного греха, не объявляя и не подтверждая отпущение именем Господа; кроме того, он дает отпущение только в определенных ему случаях. Если он пренебрегает этим, то грех пребывает и далее».


- | | |
|-----------------|----------------|
| 1) Мартин Лютер | 3) Генрих VIII |
| 2) Ян Гус | 4) Жан Кальвин |

3. Каким правителем России был написан приведённый ниже документ?
«33. Надлежит, чтоб законы, поелику возможно, предохраняли безопасность каждого особо гражданина.

34. Равенство всех граждан состоит в том, чтобы все подвержены были тем же законам.

35. Сие равенство требует хорошего установления, которое воспрещало бы богатым удручать меньшее их стяжание имеющих и обращать себе в собственную пользу чины и звания, порученные им только как правительствующим особам государства».

- | | |
|-------------------------|------------------|
| 1) Анной Иоанновной | 3) Петром III |
| 2) Елизаветой Петровной | 4) Екатериной II |



Ответ:

1	2	3
3	1	4

По 2 балла за каждый верный ответ.

Всего 6 баллов за задания 1–3.

***В заданиях 4 и 5 выберите несколько верных ответов из предложенных.
Ответы внесите в таблицу в бланке работы.***

4. Какие из перечисленных монархов возглавляли европейские государства в период Семилетней войны?

- | | |
|-------------------|---------------|
| 1) Анна Иоанновна | 4) Людовик XV |
| 2) Людовик XIV | 5) Август II |
| 3) Георг II | 6) Фридрих II |

5. Какие из перечисленных городов Россия уступала Речи Посполитой по Деулинскому перемирию?

- | | |
|-----------------------|--------------|
| 1) Смоленск | 4) Ивангород |
| 2) Новгород-Северский | 5) Чернигов |
| 3) Псков | 6) Вязьма |

Ответ:

4	5
346	125

По 3 балла за полностью верный ответ на каждое задание; 1 балл за ответ с одной ошибкой (не указан один из верных ответов или наряду с указанными верными ответами приводится один неверный).

Всего 6 баллов за задания 4, 5.

6. Перед Вами перечень памятников культуры, созданных в трёх различных странах. Запишите в верхнюю строку таблицы в бланке работы названия стран, а в нижнюю – порядковые номера памятников культуры, созданных в соответствующей стране.

- 1) дворец Эскориал
- 2) фреска «Гайная вечеря»
- 3) роман «Гаргантюа и Пантагрюэль»
- 4) дворец Большой Трианон
- 5) собор Санта-Мария-дель-Фьоре
- 6) поэма «Божественная комедия»
- 7) картина «Менины»
- 8) «Энциклопедия, или толковый словарь наук, искусств и ремёсел»
- 9) роман «Хитроумный идальго Дон Кихот Ламанчский»

Ответ:

Страна	Франция	Италия	Испания
Памятник культуры	348	256	179

По 1 баллу за каждую названную страну. По 1 баллу за каждое верное соотнесение.

Всего 12 баллов.

7. Дайте краткое обоснование ряда (что объединяет перечисленные элементы) и укажите, какой из элементов является лишним по данному основанию.

7.1. 1590–1595, 1656–1658, 1654–1667, 1700–1721, 1741–1743.

7.2. Джордано Бруно, Галилео Галилей, Иоганн Кеплер, Марко Поло, Николай Коперник.


Ответ:

7.1. Годы русско-шведских войн. Лишнее: 1654–1667 – русско-польская война.

7.2. Астрономы/мыслители, сторонники гелиоцентризма. Лишнее: Марко Поло – первооткрыватель, путешественник.

По 3 балла за каждый верный ответ.

Всего 6 баллов.



8. По какому принципу образованы ряды? Дайте максимально точный ответ.

8.1. Г.З. Байер, Г.Ф. Миллер, А.Л. Шлецер, Н.М. Карамзин.

8.2. И. Москвитин, С. Дежнев, В. Беринг, И. Крузенштерн.

Ответ:

8.1. Сторонники норманизма.

8.2. Российские путешественники-первооткрыватели.

По 3 балла за каждый верный ответ.

Всего 6 баллов.

9. Установите соответствие между событиями отечественной и зарубежной истории, произошедшими в том же веке. Запишите выбранные цифры под соответствующими буквами в таблицу в бланке работы.

СОБЫТИЕ ОТЕЧЕСТВЕННОЙ ИСТОРИИ	СОБЫТИЕ ЗАРУБЕЖНОЙ ИСТОРИИ
А) Учреждение Славяно-Греко-Латинской академии	1) Авиньонское пленение пап 2) Тридентский собор
Б) Издание в России первой печатной книги	3) Казнь Карла I Стюарта 4) Война за испанское наследство
В) Написание А. Никитиным «Хождения за три моря»	5) Начало экспедиции Васко да Гамы
Г) Открытие Московского университета	

Ответ:

А	Б	В	Г
3	2	5	4

По 1 баллу за каждое верное соотнесение.

Всего 4 балла.

10. Установите соответствие между полководцем и битвой, в которой он принимал участие. Запишите выбранные цифры под соответствующими буквами в таблицу в бланке работы.

ПОЛКОВОДЕЦ	БИТВА
А) М.М. Голицын	1) Гангутское сражение
Б) А.В. Суворов	2) Гренгамское сражение
В) М.Б. Шеин	3) осада Смоленска
Г) Г.А. Спиридов	4) Чесменское сражение 5) сражение при Козлудже

Ответ:	А	Б	В	Г
	2	5	3	4

По 1 баллу за каждое верное соотнесение.


Всего 4 балла.

11. Определите пропущенные в тексте названия, слова, имена, даты, обозначенные порядковыми номерами. При необходимости при порядковых номерах даются пояснения о характере требуемой вставки. Необходимые вставки впишите под соответствующими номерами в таблицу в бланке работы.

25 ноября **(1)** года свершился новый переворот. Ночью солдаты **(2 – название)** полка во главе с дочерью Петра I **(3 – имя)**, одетой в кирасу, двинулись в Зимний дворец. Маленький император **(4 – имя)** и его родители были арестованы. Свергнутое семейство сначала намеривались отправить за границу. Потом посчитали это слишком опасным. В 1744 году пленников отправили в ссылку в **(5 – название города)**, на север. Там появились на свет братья и сестры свергнутого императора. Его родители – **(6 – имя матери)** и **(7 – имя отца)** скончались в ссылке. Их дети, которых запретили даже учить грамоте, владели жалкое существование. Свергнутого императора позднее содержали отдельно – в **(8)** крепости. В 1764 г. он был убит стражей при попытке освобождения его авантюристом В.Я. Мировичем.

При свержении брауншвейгской фамилии были арестованы К.Б. Миних и А.И. Остерман. Их отправили в ссылку в Сибирь. А вот о «заслугах» главного фаворита Анны Иоанновны **(9 – имя)** новая императрица вспомнила. В 1730–1740 гг. курляндский герцог не дал императрице Анне Иоанновне заточить её в монастырь. Она разрешила ему вернуться из Сибири и жить в Ярославле.

Рота, совершившая переворот, была названа **(10)**. Солдаты-недворяне из неё получили потомственное дворянство. Всех пожаловали поместьями.



Ответ:

1	1741
2	Преображенского
3	Елизаветой (Петровной)
4	Иван VI (Иван Антонович)
5	Холмогоры
6	Анна Леопольдовна
7	Антон Ульрих (Антон Брауншвейгский)
8	Шлиссельбургской
9	Бирон
10	Лейб-компания

По 1 баллу за каждую верную вставку.

Всего 10 баллов.

12. Внимательно рассмотрите схему и выполните задания. Ответы внесите в таблицы № 1 и № 2 в бланке работы.



12.1. Заполните пропуски в предложениях. Ответы внесите в таблицу № 1 в бланке работы.

А) На схеме отражены события _____ войны (укажите название войны и годы).

Б) Русским флотом в сражении, которое произошло у мыса, обозначенного на схеме цифрой ____, командовал Ф.Ф. Ушаков.

- В) Крепость, обозначенная на схеме цифрой _____, была осаждена русскими войсками под командованием Г.А. Потёмкина.
- Г) Крепость, обозначенная на схеме цифрой _____, была взята штурмом под руководством А.В. Суворова.
- Д) Мирный договор, заключённый в результате этой войны, был подписан в городе, обозначенном на схеме цифрой _____.
- Е) Город, обозначенный на схеме цифрой _____, стал базой русского Черноморского флота.

12.2. Определите верность или ложность суждений, вписав в таблицу напротив порядковых номеров верных суждений «да», напротив ложных суждений – «нет». К каждому ответу дайте краткое обоснование. Ответ без обоснования не принимается. Ответы внесите в таблицу № 2 в бланке работы.

- 1) Территории, отмеченные на схеме горизонтальной штриховкой, вошли в состав Российской империи по условиям Белградского мира.
- 2) На схеме обозначен город, который в годы войны имел статус столицы.
- 3) Присоединить территории, отмеченные на схеме вертикальной штриховкой, было главной целью России в войне, события которой отражены на схеме.
- 4) Глава государства, союзника России в войне, события которой отражены на схеме, побывал на территориях, отмеченных вертикальной штриховкой.
- 5) На схеме подписано название города, который на протяжении конца XVII – первой половины XVIII века дважды включался в состав России.
- 6) С событиями войны, отражёнными на схеме, связано написание оды М.В. Ломоносова «На взятие Хотина».

Таблица № 1.

Ответ:

А	Русско-турецкая 1787–1791
Б	1
В	5
Г	2
Д	4
Е	3

По 1 баллу за каждый верный ответ.

Всего 6 баллов.




Таблица № 2.

Ответ:

1	Нет. Так как территории, отмеченные на схеме горизонтальной штриховкой, вошли в состав Российской империи по условиям Ясского мира.
2	Да. Так как на схеме обозначена столица Валахии (Румынии) Бухарест.
3	Нет. Так как эти территории вошли в состав Российской империи в 1783 году.
4	Да. Император Священной Римской империи, союзника России, побывал в Крыму в 1787 году.
5	Да. Так Азов включался в состав Российской империи в 1700 и в 1739 году.
6	Нет. Так как ода написана в связи с событиями русско-турецкой войны 1735–1739 гг.


По 2 балла за каждый верный ответ. Ответ без обоснования не принимается.

Всего 12 баллов.

Всего за задание 18 баллов.

13. Перед Вами картины и эскизы русского живописца В.И. Сурикова, посвящённые различным событиям в истории России. Ответы перенесите в таблицу в бланке работы: во вторую колонку таблицы запишите, какое событие изображено на картине, в третью колонку таблицы запишите год, когда это событие произошло.

А)



Б)





В)



Г)



Д)



Е)



Ответ:

Буквенное обозначение картины	Событие	Год/годы
А	Убийство древлянами князя Игоря (смерть князя Игоря)	945 (946)
Б	Казнь восставших стрельцов	1698 (1699)
В	Ссылка боярыни Морозовой (Раскол Русской церкви)	1671 (1650-е – 1660-е)
Г	Поход Ермака в Сибирь	1581–1585
Д	Ссылка А.Д. Меншикова в Березов	1728
Е	Поход Степана Разина (восстание Степана Разина)	1667–1669 (1670–1671)

По 1 баллу за каждый верный элемент ответа.

Всего за задание 12 баллов.

14. Внимательно изучите представленный ниже отрывок из документа и ответьте на вопросы к нему.

«Всемилоостивейший государь батюшка-дядюшка!

Известно вашему величеству, что я в Митаву с собою ничего не привезла, а в Митаве ж ничего не получила и стояла в пустом мещанском дворе, того ради, что надлежит в хоромы, до двора, поварни, конюшни, кареты и лошади и прочее, – все покупано и делано вновь. А приход мой деньгами и припасами всего 12 680 талеров: из того числа в расходе в год по самой крайней нужде к столу, поварне, конюшне, на жалованье и на ливрею служителям и на содержание драгунской роты – всего 12 154 талера, а в остатке только 426 талеров. И таким остатком как себя платьем, бельем, кружевами и, по возможности, алмазами и серебром, лошадьми, так и прочим в новом и пустом

дворе не только по моей чести, но и против прежних вдовствующих герцогинь весьма содержать себя не могу. Также и шляхетские жены ювелирные и прочие уборы имеют не убогие, из чего мне в здешних краях не бесподозрительно есть. И хотя я, по милости вашего величества, пожалованными мне в прошлом году деньгами и управила некоторые, самые нужные домовые и на себе уборы, однако много еще на себе долгу за крест и складень брильянтовый, за серебро и за убор камаор и за нынешнее чёрное платье (т. е. траур) – 10 000 талеров, которых мне ни по которому образу заплатить невозможно. И впредь для всегдашних нужных потреб принуждена в долг больше входить, а не имея чем платить и кредиту нигде не будет».

1. Назовите автора письма.
2. Назовите адресата письма.
3. Датируйте письмо. Дайте ответ в виде двух смежных десятилетий.
4. Из какого государства пишет автор?
5. При каких обстоятельствах автор письма оказался в Митаве?
6. Какую характеристику можно дать этому герцогству на основании этого письма? Приведите три положения.

Ответ:

1. Анна Иоанновна. (2 балла)
2. Пётр I. (2 балла)
3. 1710–1720 гг. (2 балла)
4. Курляндия. (2 балла)
5. Была выдана Петром I замуж за курляндского герцога. (2 балла)
6. Доходы герцогства небольшие и не могут обеспечить содержание двора правителя. Вооружённые силы ограничиваются драгунской ротой. Правитель находится в зависимости от дворянства. (По 2 балла за каждое названное положение. Всего 6 баллов)

Всего за задание 16 баллов.

Всего за работу 100 баллов.

