

**Информация об участнике Заключительного этапа Всероссийской олимпиады
школьников по истории 2016 г.**

Фамилия

Имя

Отчество

Школа

Класс

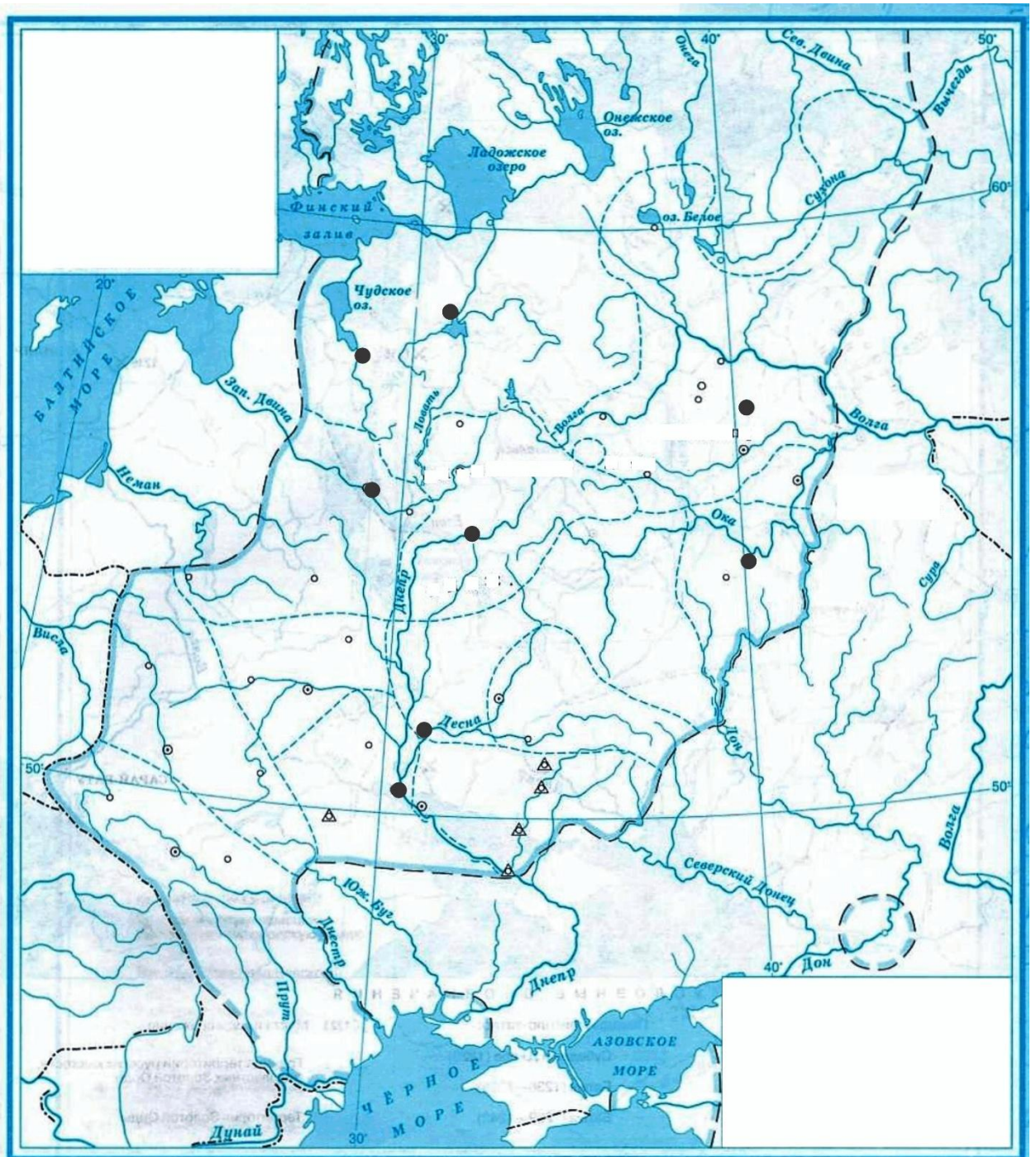
Шифр (заполняется членами Оргкомитета)

ВТОРОЙ ТУР 10-11 класс

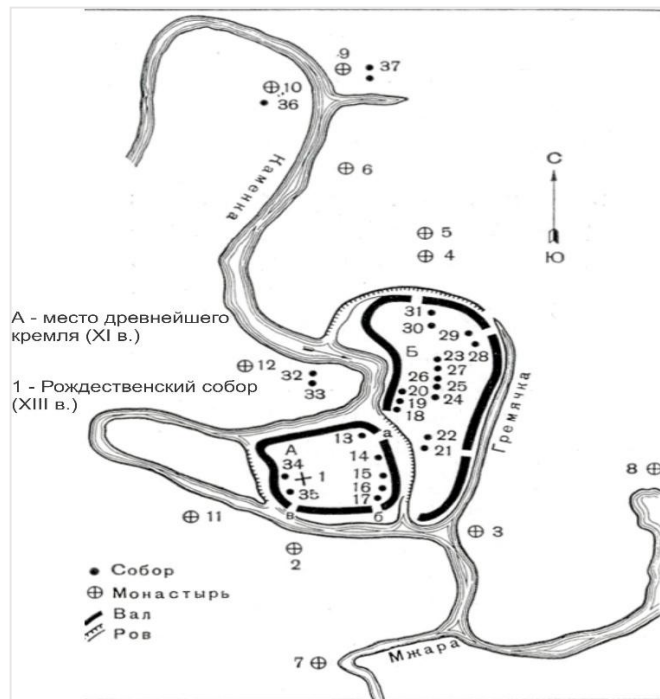
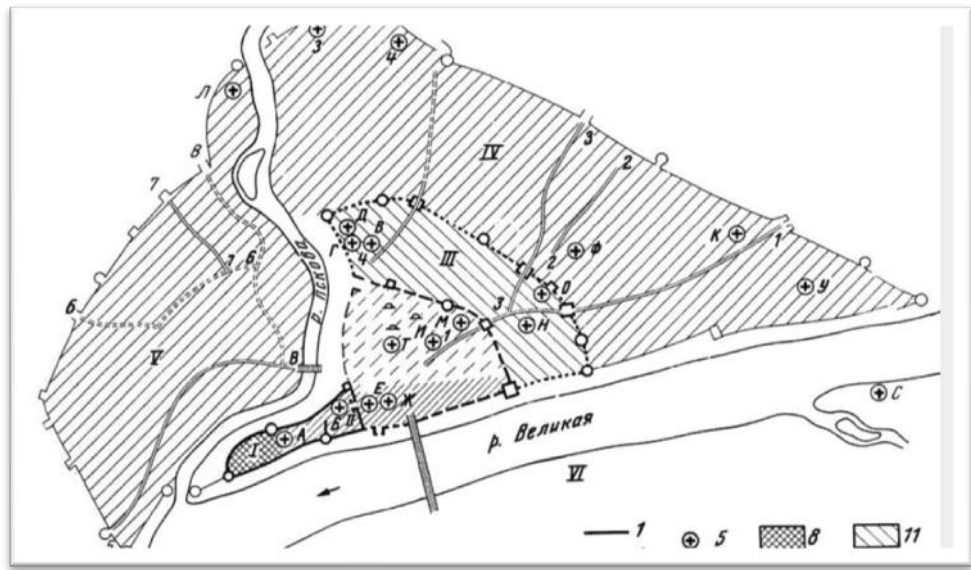
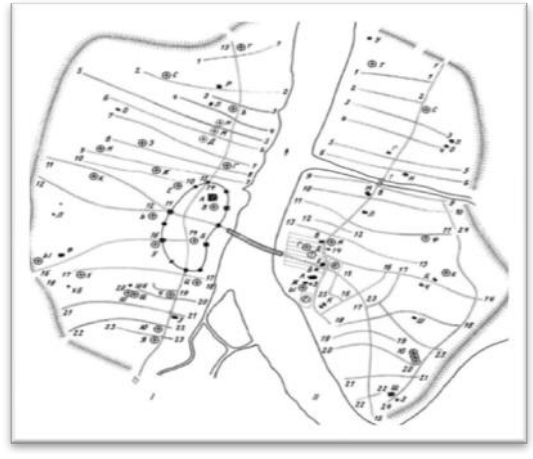
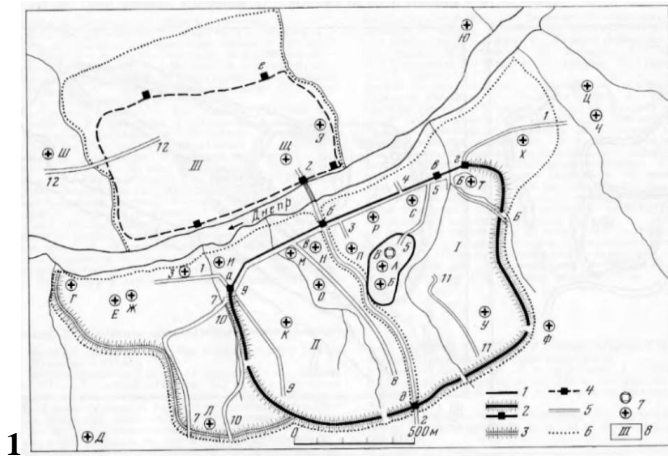
Максимальная оценка – 100 баллов

Время на подготовку – 3 часа.

1. [12 баллов] Перед Вами карта русских земель XII – начала XIII в. и планы различных типов (научно-археологические, популярные краеведческие) древнерусских городов – столиц сложившихся и формировавшихся в этот период независимых русских земель и княжеств. На карте представленные в планах города обозначены жирными кружками. Используя сведения планов и Ваши знания о древнерусских городах, определите, какой город изображен на каждом плане. Подпишите каждый кружок, указав на карте название города и номер плана.

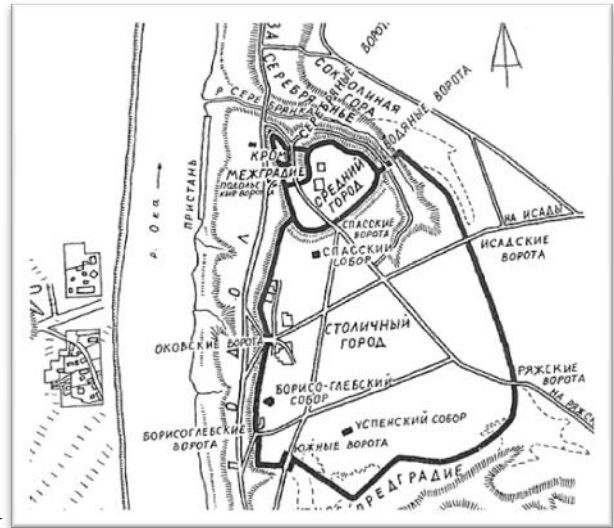


ПЛАНЫ ГОРОДОВ

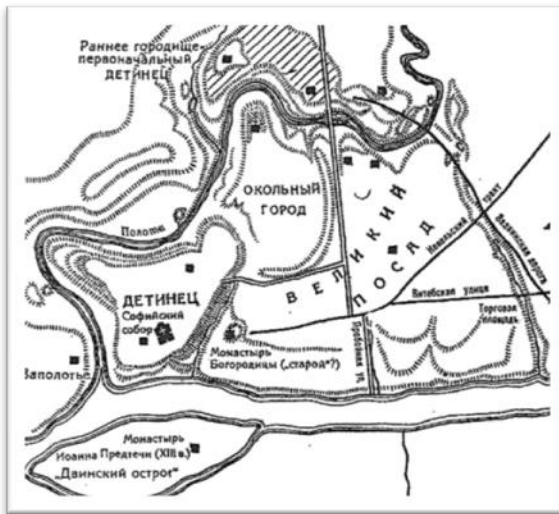




5




6



7



8

2. [6 баллов] Прочтите фрагменты источников, связанные с событиями в Смоленской земле. Соотнесите фрагменты с датами событий, предложенными ниже. Дайте обоснование датировки ссылками на текст источников. Ответ оформите в виде таблицы. 

Фрагмент № 1. Ольгово княжение. Слышо, яко Аскольд и Дир княжита в Поленех, и поиде из Новаграда воивати, и налезоста Днепр реку, и приидоста под Смоленск, и сташа выше города и шатры иставиша многи различны цветы. Увидавше же смольняне, и изыдоша старейшины их к шатром и спросиша единого человека: «кто сей прииде, царь ль или князь в велицей славе?» И изыде из шатра Ольг, имьи на руках у себя Игоря, и рече смольняном: «сей есть Игорь князь Рюрикович русский». И нарекоше его смольняне государем, и вдася весь град за Игоря. И посади в нем наместники своя, а сам поиде по Днепру вниз, и приде к горам Киевским, и узреста город Киев...

Фрагмент № 2. Преставися великий князь русьский Ярослав. И еще бо живуцю ему, наряди сыны своя, рек им: «Се аз отхожю света сего, сынове мои; имейте в себе любовь, понеже вы есте братья единого отца и матере. Да аще будете в любви межю собою, бог будет в вас, и покорить вы противныя под вы. И будете мирно живуше. Аще ли будете ненавидно живуше, в распрях и которающесе, то погыбнете сами, и погубите землю отец своих и дед своих, юже налезоста трудом своим великим; но пребывайте мирно,

послушающе брат брата. Се же поручаю в собе место стол старейшему сыну моему и брату вашему Изяславу Киев; сего послушайте, якоже послушаете мене, да той вы будете в мене место; а Святославу даю Чернигов, а Всеволоду Переяславль, а Игорю Володимер, а Вячеславу Смолинеск».


Фрагмент № 3. В лето ... имя единому Аскольд, имя другому Дир; ни племени княжа, ни боярска, и не даст им Рюрик ни града, ни села. Аскольд же и Дир испросистася у Рюрика ко Царюграду итьти с родом своим и поидоша из Новаграда на Днепр реку и по Днепру вниз мимо Смоленск и не явистася к Смоленску, зане град велик и мног людьми...

Фрагмент № 4. Преставися Вячеслав, сын Ярославль, Смолиньске, и посадиша Игоря Смолиньске, из Володимеря выведше.

Фрагмент № 5. Святополкъ же... с лестью посла къ Глѣбу, глаголя сице: «Поиде вборзѣ, отець ты зоветь, нездоровить бо велми». Глѣбъ же, всѣдъ на конь, поиде с маломъ дружины, бѣ бо послушьливъ отцю. И приде ко Смоленску, и поиде от Смоленска, яко зрѣима, и ста на Смядинѣ в корабли.[319] В се же время пришла бѣ вѣсть от Передьславы къ Ярославу о отни смерти, и посла Ярославъ къ Глѣбу, глаголя: «Не ходи, отець ти умерлъ, а братъ ти убить от Святополка». И се слышавъ, Глѣбъ въспи велми съ слезами и плачася по отци, паче же и по братѣ, и нача молитися со слезами, глаголя: «Увы мнѣ, Господи! Луче бы мнѣ умрети с братомъ, нежели жити въ свѣтѣ семь». И сице ему молящюся съ слезами, и внезапно придоша послании от Святополка на погубленье Глѣба. И ту абье послании яша корабль Глѣбовъ и обнажиша оружья. И отроци Глѣбовы уныша. Оканьный же Горясѣръ повелѣ вборзѣ зарѣзати Глѣба. Поваръ же Глѣбовъ, именемъ Торчинъ, вынъзъ ножъ, зарѣза Глѣба, аки агня непорочно.


Фрагмент № 6. Володимер же собра вой многи, варяги и словени, чюдь и кривичи, и поиде на Рогъволода. В се же время хотячу Рогънедь вести за Ярополка. И приде Володимер на Полотеск, и уби Рогъволода и сына его два, и дъчерь его поя жене. И поиде на Ярополка. И приде Володимер Киеву с вой многи, и не може Ярополк стати противу, и затворися Киеве с людьми своими...

Дата	Номер фрагмента	Основания для датировки
863		
881		
980		
1015		
1054		
1057		

3. [9 баллов] Перед Вами – фотографии известных смоленских памятников, сделанные в разное время. Назовите эти памятники и определите временной промежуток, когда были сделаны фотографии (поставьте знак + в соответствующей графе таблицы). 



1.




2.



3.



4.



5.



6.




7.



8.



9.



10.

№ фотографии	Название памятника (если повторяется, можно поставить знак #)	Фотография дореволюционного времени	Фотография военного времени	Фотография послевоенного времени
1.				
2.				
3.				
4.				
5.				
6.				
7.				
8.				
9.				
10.				

4. [6 баллов] Перед Вами гербы шести городов Смоленщины (представлены варианты, утвержденные в 1780 г.) и краткая информация из истории этих городов. Определите, о каких городах идет речь и заполните таблицу. 🏰

Фрагмент 1. Первое упоминание (1165) относится ко времени княжения Давыда Ростиславича Смоленского. Наиболее прославился в связи событиями Отечественной войны 1812 г. Именно здесь произошли два важных сражения: одно в августе при отступлении русской армии и второе в ноябре, когда многократно превосходящие силы русских войск атаковали отступавшую к границе французскую армию, нанесли ей значительные потери.

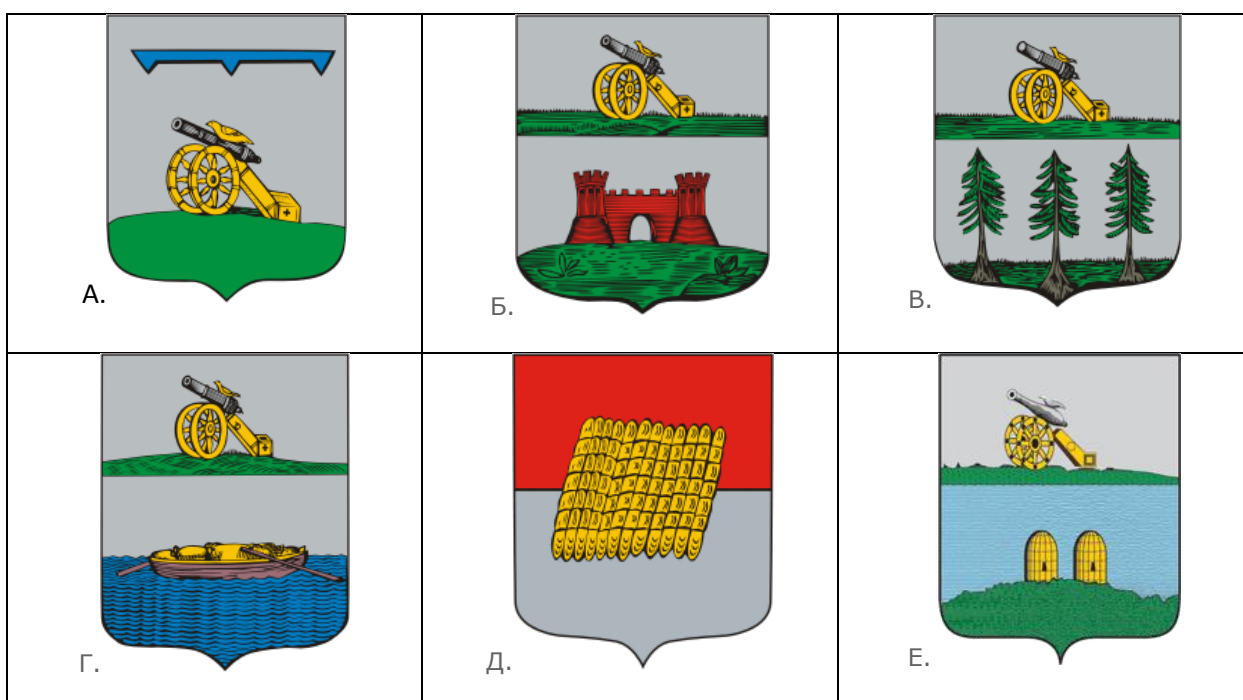
Фрагмент 2. Не принадлежит к числу древнейших городов. Возник в связи с замыслами Петра I, стремившегося связать строившуюся на побережье Финского залива столицу с центральными районами страны. Самодержец сам осмотрел высокие и лесистые берега реки, в честь которой в дальнейшем был назван город, и убедившись в целесообразности ее использования для снабжения Петербурга сырьем и продовольствием, 23 октября 1715 года предписал сделать на ней и других реках района «судовый ход». Город в XVIII в. славился своей хлебной пристанью, что нашло отражение в гербе... Около 50 лет назад город был переименован (**Необходимо указать в таблице и историческое, и современное название**).

Фрагмент 3. Первое упоминание относится к 1239 г. В XV-XVI вв. город был пограничным и не раз переходил из рук в руки. При Иване Грозном был включен в число опричных городов, а во время Ливонской войны превращен в крупную военную базу. Один из фамильных уделов древнего Смоленского княжения, колыбель знаменитого в истории России княжеского рода. Осенью 1941 г. в районе города в окружение попали около 600 тыс. бойцов Красной Армии; в период фашистской оккупации здесь были расположены два лагеря смерти для военнопленных и гражданского населения. В 2009 г. городу присвоено звание «Город воинской славы».

Фрагмент 4. Первый раз источники упоминают о нем под 1150 г. Основан смоленским князем Ростиславом Мстиславичем. По одной из версий название свое получил по одноименному городу в Волынской земле, где княжил старший брат Ростислава Изяслав. ... 95 лет находился во власти литовских королей, и только при Иване III был возвращен Москве... Кровавое сражение произошло тогда на реке Ведрошь. Более 8 тыс. убитых осталось на поле брани... Василий III дал распоряжение хорошо укрепить город... В войну 1812 г. стал местом ожесточенных боев с отступавшей наполеоновской армией. Важной статьёй дохода этого города было производство пеньки, что нашло отражение в гербе.

Фрагмент 5. Был основан около 1137 г. князем Ростиславом Мстиславичем как один из опорных пунктов княжеской власти, в связи с чем и получил свое первоначальное название. Современное, немного измененное наименование, носит с середины XVIII в. Славился своим медом, что нашло отражение в гербе. Родина знаменитых скульпторов М.О. Микешина и С.Т. Коненкова.

Фрагмент 6. Одно из древнейших поселений Смоленщины. В период Отечественной войны 1812 года – известный центр партизанского движения. Через город прошли главные силы русской армии. В городе некоторое время находился штаб М.И. Кутузова. В начале Великой Отечественной войны здесь было осуществлено первое контрнаступление Красной Армии. 6 сентября 1941 г. над городом снова взвился красный флаг. Здесь во время самых тяжелых боев 1941 года родилась советская гвардия.



Фрагмент (№)	Название города	Герб (Буква)
1.		
2.		
3.		
4.		
5.		
6.		

5. [13 баллов] Перед вами выдержки из документов Земских соборов. Ваша задача состоит в том, чтобы определить, к какому собору относится представленный отрывок, датировать его и, аргументировав это, расставить отрывки в хронологической последовательности.

Фрагмент № 1. «... что Государь нам говорил, как нам стояти против своего недруга Короля Польского? И мы Государю своему свой совет учинили таков: что Государское великое смирение во всем поступает на себя; городов, которые в Полотцком повете, ... , поступается Королю; да Королю же поступается по Задвинью, по Глуботцкой дороге. Пригоже Государю за те города Ливонские стояти, которые города взял Король во оберегание, Ригу, Кесь, Володимирец... и иные города, которые ко Государским их порубежным городом ко Псковским и к Юрьевским подошли. А в те города Ливонские Король вступился, и держит их за собой в обороне не по правде; потому Государь наш на Ливонскую землю наступал за их неисpravление и Маистра, и Бискупа и многих людей пленом свел и города Ливонские, свою вотчину, поимал и православием просвятил, в тех городех церкви поставил; что Государю нашему тех городов Ливонских, которые взял Король во оберегание, отступитися непригоже, а пригоже Государю за те города стоять. А как ему Государю за те города стояти, и в том его Государская воля, как его Государя Бог вразумит».

Фрагмент № 2. «... С помощью Божию, обрали есмя Государя на царство и великого княженье Московского и на все государства Российского царствия Самодержца... содержателя великих царств Казань и Астрахань и правителя непоколебимого праведного и милостивого, царского кореня сродича, и победителя прегордого и хвлящегося и сильно находца царя Крымского и превысоких и прегордых королей победителя, короля Полского и Свиского и их сродников королей».

Фрагмент № 3. «... Московского государства разных земель царевичи и бояре и окольные и чашники и стольники, и дворяне и стряпчие и жильцы и приказные люди и князи и мурзы и дворяне из городов и дети боярские всех городов и атаманы и казаки... а поместья за бояры быти боярским, а взяти им себе поместья и вотчины боярские, и окольных и думных дворян, боярину боярское, а окольному окольное, примеряся к прежним большим бояром, как было при прежних российских прирожденных государех...».

Фрагмент № 4. «... да он же Ян Казимир Король, забыв вечное докончанье, умышляя над московским государством злые неприятельские замыслы, ссылался с общим Христианским неприятелем с Крымским Ханом почасту и всякие вымыслы вымышлял, чтоб собча московское государство воевать и разорить.... Что паны и вся речь посполитая на православную Христианскую веру Греческого закона на святые Божие восточные церкви

возстали и гонение учинили большое и их Запорожских Черкас от истинной веры, в которой они издавна живут, учили отлучать и неволить».

Фрагмент № 5. «А ныне они атаманы и казаки все скудны, и запасов де у них нет, и пороха нет... и ратным людям на жалованье деньги надобны многие ж, и хлебные и пушечные всякие запасы надобны не на один год, потому что война бывает и Турских людей не по один год; и такие великие деньги и многие запасы на те годы где имати? И стольникам и дворянам московским, и дьякам, и головам и сотникам, и дворянам и детям боярским из городов, и гостям и гостиным и суконным сотням и черным сотням торговым, и всяких чинов служилым и жилацким людям помыслить о том накрепко и Государю Царю и Великому Князю мысль свою объявити на письме, чтоб ему Государю про то про все было известно».

Фрагмент № 6. «... в приидущее лето бил есми вам челом и с бояры своими о своем согрешении, а бояры такоже, и вы нас в наших винах благословили и простили, а аз по вашему прощению и благословению и бояр своих в прежних винах во всех пожаловал и простил, да им же заповедовал со всеми христианы царствия своего и в предних всяких делех помиритися на срок. И бояре мои и вси приказные люди и кормленщики со всеми землями помирилися во всех делех».

№ в хрон. послед-ти	Дата собо-ра	Объяснение

6. [4 балла]. Объясните следующие понятия из старообрядческого лексикона:

А) «Перемазание» священника — _____

Б) «Обливанцы» — _____

В) Крестный ход посолонь — _____

Г) Единоверие — _____

7. [4 балла]. Перед Вами несколько исторических загадок. Попробуйте отгадать их. Ответы оформите в виде таблицы.

А) Исторические источники подчас удивляют нас своим стилем изложения и содержанием. В одном из таких источников мы встречаем следующие рекомендации «в круг не плевать», «громко не сморкаться и не чихать», «не пи, пока еще не проглотил». Предположите, как называется данный источник, и укажите правителя России, при котором он был составлен.

Название источника	Правитель

Б) Мысленно перенесемся в начало XIX в. Во время представления трагедии В.А. Озерова «Дмитрий Донской» публика стоя устраивала продолжительные овации в середине спектакля, когда в ответ на предложение заключить мир с Мамаем князь Дмитрий произносил:

Ах, лучше смерть в бою,
Чем мир принять бесчестный!

С каким историческим событием была связана такая реакция публики? Обязательно объясните свой ответ.

Историческое событие	Объяснение

В) Иногда в истории случается так, что даже у непримиримых соперников может оказаться больше общего, чем мы могли бы подумать. Оба этих известных исторических деятеля родились в одном городе, только с разницей в 11 лет. Их семьи дружили, а отцы занимали руководящие должности в сфере образования. Оба получили юридическое образование, пришли в политику и со временем стали первыми лицами государства, возглавив поочередно правительство. Предположите кто эти политические деятели, назовите город, где они родились, и годы их рождения.

Деятель	Город	Год рождения

8. [11 баллов] 320-летию военно-морского флота России посвящается. 

Перед вами портреты русских флотоводцев и краткие сведения о них. Определите, кто изображен на портретах, и заполните таблицу.



Сведения:

1. Погиб вместе с художником-баталистом.
2. Родился в Смоленской губернии.
3. Ему принадлежит известная фраза: «От службы во флоте меня отстранили, но отстранить меня от службы флоту невозможно».
4. Участник последнего крупного сражения парусных флотов.
5. Верховный правитель России
6. Причислен к лику общецерковных святых.
7. Одно из его самых известных сражений запечатлено на картине И. Айвазовского «Чесменский бой».
8. Звание Адмирала Флота Советского Союза ему присваивалось трижды, последний раз в 1988 году посмертно.
9. Участник полярной экспедиции и действительный член Императорского Русского географического общества.
10. Будучи наркомом ВМФ в ночь на 22 июня 1941 г. с риском для жизни отдал приказ о приведении флота в полную боевую готовность, вследствие чего в первый день войны не был потерян ни один корабль.
11. Командовал военно-морскими силами России в Средиземном море.

Букв. обозначение портрета	Фамилия флотоводца	Сведения (цифры)
А		
Б		
В		
Г		
Д		
Е		

9. [5 баллов] Верно ли, что:

1. Представления о Киевской Руси как о «стране городов» ошибочны: на ее территории известны лишь несколько городов, в которых найден культурный слой IX – первой половины X в.
2. Слово «продажа» в Русской Правде обозначало не торговую сделку, а судебный штраф.
3. Массовое распространение поместной формы землевладения началось только после Смуты, и лишь к концу этого столетия поместья стали преобладать в Центральной части России.
4. «Тягло» в Московской Руси – это общее наименование всех прямых налогов и повинностей в пользу государства, уплата косвенных налогов к несению «тягла» не относилась.
5. Одним из последствий анти-дворянского курса Павла I стало резкое сокращение раздачи государственных крестьян дворянам, что способствовало сохранению государственного земельного фонда.
6. Уже в первой половине XIX в. именно вольнонаемные, а не крепостные рабочие составляли большинство в промышленности России.
7. Российская империя в начале XX века вышла на первое место в мире и по урожаю зерновых, и по хлебному экспорту.
8. Несмотря на рыночный характер некоторых преобразований в период НЭПа, для советской экономики этого времени не была характерна проблема безработицы.
9. Хотя отдельные положения денежной реформа 1947 г. носили конфискационный характер, она подразумевала снижение цен и отмену карточной системы.
10. При всех очевидных достижениях индустриализации и урбанизации, доли городского и сельского населения в СССР сравнялись только к началу 1960-х гг.

Ответ оформите в виде таблицы:


Да	Нет

10. [9 баллов] Перед Вами картины, на которых изображены важные события, связанные с Великой Отечественной войной. Ваша задача – определить, о каких именно событиях идет речь, дать датировку (с точностью до месяца и года, если не сказано иное) и расположить их в хронологической последовательности. Ответ оформите в виде таблицы.

Буква в хронологической последовательности	Событие
А	Б¹
	
В	Г²
	

¹ Датировка с точностью до года.

² Датировка с точностью до дня.




11. [9 баллов] Перед Вами карикатуры из одного нидерландского журнала, посвященные событиям советской внешней политики вт. половины XX века. Расставьте эти карикатуры в хронологическом порядке и укажите события, которым они посвящены, и их даты.



³ Датировка - должен быть указан временной промежуток с годами.

⁴ Датировка - должен быть указан временной промежуток с годами.



Карикатура (буква) (в хрон. посл-ти)	Год(ы)	События

Причины крестьянских выступлений в 1907 – 1913 гг.

Причины выступлений / годы	1907	1908	1909	1910	1911	1912	1913	Всего
	VI-XII							
Отказ крестьян платить налоги и выполнять государственные натуральные повинности	19	16	1	8	9	13	15	81
в т.ч. с сопротивлением полиции и введением военных команд	9	9	—	3	3	6	4	34
Столкновения крестьян с полицией и сопротивление при аресте участников волнений	22	20	6	6	7	4	7	72
Демонстрации, митинги и собрания	8	2	—	—	1	—	—	11
Разгром имений землевладельцев	6	2	3	1	1	2	—	15
Убийства помещиков и управляющих имениями	1	2	—	2	—	—	1	6
Столкновения с землевладельцами и служащими имений по разным поводам	9	8	9	11	3	14	14	68
в т.ч. при размежевании владельческих и крестьянских земель	—	1	—	4	1	4	5	15
Захват и запашка земель и угодий	15	6	4	4	4	3	1	37
в т.ч. землевладельческих	14	3	1	4	3	2	1	28
Потравы и выпасы скота	34	24	11	14	9	25	18	135
в т.ч. с сопротивлением	14	16	6	12	6	19	12	85
Самовольный покос и захват сена	21	6	—	—	2	3	1	33
в т.ч. с сопротивлением	9	1	—	—	1	2	—	13
Порубки и захват дров	16	32	6	11	6	10	17	98
в т.ч. с сопротивлением	7	20	1	6	3	9	9	55
Отказ крестьян выходить на отруба и хутора	—	2	5	6	3	2	6	24
Недопущение к производству межевых работ	5	6	14	26	25	25	13	114
в т.ч. с сопротивлением полиции и введением военных команд	2	1	3	5	6	3	2	22

Столкновения между крестьянами при выходе на отруба и хутора	2	7	13	21	17	20	9	89
в т.ч. с сопротивлением полиции	1	2	1	1	—	1	—	6
Передел, захват и запашка земель отрубников и хуторян.	1	3	—	—	4	5	12	25
Волнения сельскохозяйственных рабочих	27	1	7	8	7	17	15	82
в т.ч. забастовки	20	7	5	6	6	9	14	67
Поджоги имущества и собственности	106	50	43	31	45	25	21	321
в т.ч. землевладельцев	98	40	35	18	32	13	11	247
зажиточных односельчан, отрубников и хуторян	2	6	6	9	12	10	8	53
Всего волнений, в том числе и по иным причинам	303	212	129	159	156	184	168	1311
Крестьянская агитация	14	18	30	23	31	18	1	135
в т.ч. против уплаты налогов	9	9	9	2	4	1	—	34
против законов 9 ноября 1906 г. и 14 июня 1910 г.	—	5	14	16	22	8	—	65
против самодержавия	1	1	1	2	2	3	—	10

Источник данных: Россия. 1913 год (Статистико-документальный справочник). СПб., 1995.