

10 класс

1. Число a на 1 больше числа b . Могут ли числа a^2 и b^2 быть равными?

Ответ. Могут.

Решение. Если $a = \frac{1}{2}$, $b = -\frac{1}{2}$, то $a = b+1$ и $a^2 = b^2$.

Также можно решить систему уравнений:
$$\begin{cases} a^2 = b^2, \\ a = b+1. \end{cases}$$

Критерии проверки.

- Верный ответ с указанием чисел a и b – **7 баллов**.
- Составлена система уравнений, но при ее решении допущена арифметическая ошибка – **3 балла**.
- Только ответ – **1 балл**.

2. Петя сбегает с четвертого этажа на первый на 2 секунды быстрее, чем мама едет на лифте. Мама едет на лифте с четвертого этажа на первый на 2 секунды быстрее, чем Петя сбегает с пятого этажа на первый. За сколько секунд Петя сбегает с четвертого этажа на первый? (Длины пролетов лестницы между всеми этажами одинаковы).

Ответ. За 12 секунд.

Решение. Между первым и четвертым этажами 3 пролета, а между пятым и первым – 4. Согласно условию, Петя 4 пролета пробегает на 2 секунды дольше, чем мама едет на лифте, а три пролета – на 2 секунды быстрее мамы. Значит, за 4 секунды Петя пробегает один пролет. Тогда с четвертого этажа на первый (т.е. на 3 пролета) Петя сбегает за $4 \cdot 3 = 12$ секунд.

Критерии проверки.

- Верный ответ с полным решением – **7 баллов**.
- Объяснено, что на один пролет требуется 4 секунды, в ответе указано 4 секунды – **5 баллов**.
- Верное обоснование в предположении, что путь с пятого этажа на первый в 1,25 раз больше пути с четвертого этажа на первый и ответ 16 секунд – **3 балла**.
- Только ответ – **0 баллов**.

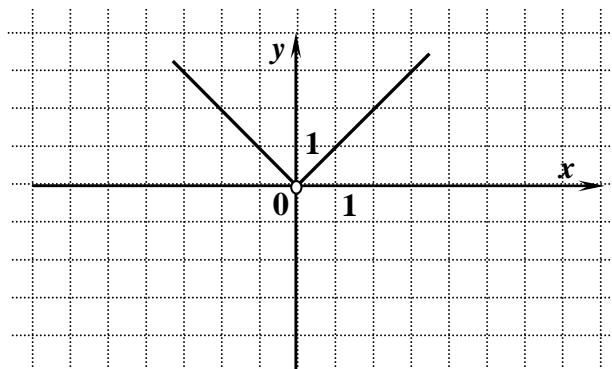
3. Постройте график функции $y = \frac{x^2}{|x|}$.

Ответ. См. рисунок.

Решение. Т.к. $x^2 = |x|^2$, то $y = |x|$, причем $x \neq 0$.

Можно также, используя определение модуля, получить, что

$$y = \begin{cases} x, & \text{если } x > 0, \\ -x, & \text{если } x < 0 \end{cases} \quad (\text{при } x=0 \text{ функция не определена}).$$




Критерии проверки.

- Верный график с объяснением – **7 баллов**.
- Верный график без каких-либо пояснений – **5 баллов**.
- График функции $y = |x|$ без выколотой точки – **3 балла**.

4. В квадрате со стороной 5 произвольным образом отметили 201 точку. Верно ли, что какие-то 5 точек можно накрыть квадратом со стороной 1?

Ответ. Да.

Решение. Разделим данный квадрат со стороной 5 прямыми, параллельными его сторонам, на 25 квадратов со стороной 1 (см. рис.). Если бы в каждом таком квадрате было не больше 4 отмеченных точек, то всего было бы отмечено не более $25 \cdot 4 = 100$ точек, что противоречит условию. Следовательно, хотя бы в одном из полученных квадратов должно быть 5 из отмеченных точек.



Критерии проверки.

- Верное решение – **7 баллов.**
- Только ответ – **0 баллов.**

5. На числовой прямой закрашивают красным и синим цветом точки с целыми координатами по следующим правилам: а) точки, разность координат которых равна 7, должны быть покрашены одним цветом; б) точки с координатами 20 и 14 должны быть покрашены красным, а точки с координатами 71 и 143 — синим. Сколькими способами можно раскрасить все точки с целыми координатами, соблюдая эти правила?

Ответ. Восемью способами.

Решение. Из пункта а) следует, что раскраска всех точек с целыми координатами однозначно определяется раскраской точек, соответствующих числам 0, 1, 2, 3, 4, 5 и 6. Точка $0 = 14 - 2 \cdot 7$ должна быть покрашена так же как 14, т.е. красным. Аналогично, точка $1 = 71 - 10 \cdot 7$ должна быть покрашена синим, точка $3 = 143 - 20 \cdot 7$ – синим, и $6 = 20 - 2 \cdot 7$ – красным. Поэтому остается только посчитать, сколькими различными способами можно раскрасить точки, соответствующие числам 2, 4 и 5. Так как каждую точку можно раскрасить двумя способами – красным или синим – то всего способов $2 \cdot 2 \cdot 2 = 8$.

Примечание. При подсчете числа способов раскрашивания точек 2, 4 и 5, можно просто перечислить все способы, например, в виде таблицы:

2	4	5
кр	кр	кр
кр	кр	син
кр	син	кр
кр	син	син
син	кр	кр
син	кр	син
син	син	кр
син	син	син

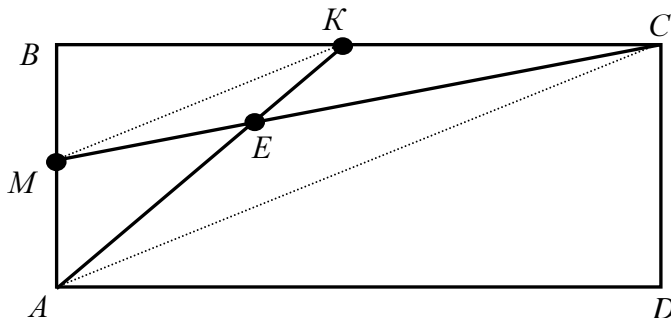
Критерии проверки.

- Верный ответ с правильным обоснованием – **7 баллов.**
- Задача сведена к подсчету числа способов раскрасить 3 точки, но получен ответ 6 или 7 – **4 балла.**
- Задача сведена к подсчету числа способов раскрасить 3 точки, но подсчет числа способов отсутствует или получен ответ, отличный от указанных ранее – **3 балла.**
- Ответ (в том числе правильный) без обоснования – **0 баллов.**

6. Дан прямоугольник $ABCD$. Точка M – середина стороны AB , точка K – середина стороны BC . Отрезки AK и CM пересекаются в точке E . Во сколько раз площадь четырехугольника $MBKE$ меньше площади четырехугольника $AECD$?

Ответ. В 4 раза.

Решение. Проведем отрезки MK и AC . Четырехугольник $MBKE$ состоит из треугольников MBK и MKE , а четырехугольник $AECD$ – из треугольников AEC и ACD . Далее можно рассуждать разными способами.



Далее можно рассуждать разными способами.

1 способ. Треугольники MBK и ACD – прямоугольные и катеты первого в 2 раза меньше катетов второго, поэтому они подобны и площадь треугольника ACD в 4 раза больше площади треугольника MBK .

Т.к. M и K – середины AB и BC соответственно, то MK – средняя линия треугольника ABC , поэтому $MK \parallel AC$ и $MK = 0,5AC$. Из параллельности прямых MK и AC следует подобие треугольников MKE и AEC , а т.к. коэффициент подобия равен 0,5, то площадь треугольника AEC в 4 раза больше площади треугольника MKE .

Теперь: $S_{AECD} = S_{AEC} + S_{ACD} = 4S_{MKE} + 4S_{MBK} = 4(S_{MKE} + S_{MBK}) = 4S_{MBKE}$.

2 способ. Пусть площадь прямоугольника $ABCD$ равна S . Тогда площадь треугольника ACD равна $\frac{1}{2}S$ (диагональ прямоугольника делит его на два равных треугольника), а площадь

треугольника MBK равна $\frac{1}{2}MB \cdot BK = \frac{1}{2} \cdot \frac{1}{2}AB \cdot \frac{1}{2}BC = \frac{1}{8}AB \cdot BC = \frac{1}{8}S$.

Т.к. M и K – середины отрезков AB и BC , то AK и CM – медианы треугольника ABC , поэтому E – точка пересечения медиан треугольника ABC , т.е. расстояние от E до AC равно $\frac{1}{3}h$, где h –

высота треугольника ABC , проведенная из вершины B . Тогда площадь треугольника AEC равна $\frac{1}{2}AC \cdot (\frac{1}{3}h) = \frac{1}{3}(\frac{1}{2}AC \cdot h) = \frac{1}{3}S_{ABC} = \frac{1}{3}(\frac{1}{2}S) = \frac{1}{6}S$. Тогда для площади четырехугольника $AECD$,

равной сумме площадей треугольников AEC и ACD , получаем: $\frac{1}{2}S + \frac{1}{6}S = \frac{2}{3}S$.

Далее, т.к. MK – средняя линия треугольника ABC , то площадь треугольника MKE равна $\frac{1}{2}MK \cdot (\frac{1}{2}h - \frac{1}{3}h) = \frac{1}{2}(\frac{1}{2}AC) \cdot (\frac{1}{6}h) = \frac{1}{12}(\frac{1}{2}AC \cdot h) = \frac{1}{12}S_{ACD} = \frac{1}{24}S$. Поэтому для площади

четырехугольника $MBKE$, равной сумме площадей треугольников MBK и MKE , получаем: $\frac{1}{8}S + \frac{1}{24}S = \frac{1}{6}S$.

Таким образом, отношение площадей четырехугольников $AECD$ и $MBKE$ равно $\frac{2}{3}S : (\frac{1}{6}S) = 4$.

Критерии проверки.

- Верное решение и верный ответ – **7 баллов**.
- Верное решение, но ответ неверен из-за арифметической ошибки – **5 баллов**.