

9 класс
ПЕРВЫЙ ТУР
Максимальная оценка – 100 баллов
Время на подготовку – 3 часа.

1. [8 баллов]

По какому принципу построен ряд? Кто или что является лишним в ряду? Вычеркните лишнее и дайте объяснение, почему? Ответы без объяснений не оцениваются!

1. Галицийская операция, Барановичская операция, Варшавско-Ивангородская операция, Львовско-Сандомирская операция

Принцип _____

Исключение _____

2. Восстание на крейсере «Очаков», Кронштадтский мятеж, восстание на броненосце «Потемкин», восстание в Свеаборге

Принцип _____





Исключение _____

3. Французский король Генрих I, венгерский король Андраш I, норвежский король Харальд, польский король Болеслав Храбрый

Принцип _____

Исключение _____

4. В этом ряду в пояснении обязательно должны быть названы изображенные на портретах люди.



Принцип _____
 Исключение _____

5. В этом ряду в пояснении обязательно должны быть названы изображенные на портретах люди.



Принцип _____
 Исключение _____

2. [5 баллов]

Что означали термины писцовых книг? Ответ оформите в виде таблицы.

№	Термин	Буква	Значение
1	Тоня	А	Жаровня для вываривания соли
2	Црен	Б	Мера земли, являвшаяся единицей налогового обложения
3	Соха	В	Участок водного пространства, где ловят рыбу
4	Коробья	Г	Половина мясной туши, разрубленной вдоль
5	Полоть	Д	Мера объема сыпучих тел

1	2	3	4	5

3. [7 баллов]

Как известно, терроризм против представителей высшей власти стал неотъемлемой частью политической и общественной жизни Российской империи конца XIX - начала XX вв. Вам необходимо заполнить пропуски в представленной ниже таблице.

Жертва террористического акта	Занимаемое положение	Исполнитель террористического акта	Организация, к которой принадлежал исполнитель	Год исполнения акта
	Император		Народоволец	
	Министр внутренних дел	Сазонов		1904
		Богров	Анархист	1911

4. [12 баллов]

Выберите правильный вариант ответа на предложенные вопросы:

1. Кто из этих князей не участвовал в «битве трех Мстиславов»?

- a) Мстислав Мстиславич
- b) Мстислав Владимирович
- c) Мстислав Святославич
- d) Мстислав Романович

2. Какая из этих земель вошла в состав Российской империи при Александре III?

- a) Памир
- b) Батуми
- c) Тебриз
- d) Ляодунский п-ов

3. Какое государство из солидарности с Россией также объявило войну Японии в 1904 году?

- a) Сербия
- b) Болгария
- c) Черногория
- d) Румыния

4. Какой подданный Российской империи стал правителем европейского государства?

- a) Скобелев М.Д.
- b) Каподистрия И.
- c) Унгерн-Штернберг Р.Ф.
- d) Чарторыйский А.Е.

5. Самым южным владением России на североамериканском континенте было поселение:

- a) Ново-Архангельск
- b) Уналашка
- c) Форт-Росс
- d) Михайловская крепость

6. Какое из этих учреждений пережило реформы Петра I?

- a) Пушкарский приказ
- b) Ямской приказ
- c) Приказ Военных дел
- d) Преображенский приказ

7. Кто из этих писателей никогда не был в России?

- a) Александр Дюма (отец)
- b) Герберт Уэллс

- c) Дени Дидро
- d) Джордж Байрон

8. С каким единственным государством состояла в союзе Россия на момент вторжения Наполеона?

- a) Англия
- b) Швеция
- c) Пруссия
- d) Сербия

9. Кто из этих военачальников на протяжении своей жизни успел побывать гражданином (подданным) четырех государств?

- a) Р.Я. Малиновский
- b) К.К. Рокоссовский
- c) А.М. Василевский
- d) И.Д. Черняховский

10. Какое здание осталось не восстановленным после Сталинградской битвы как напоминание о страшных разрушениях в городе?

- a) Бывшая мельница
- b) Дом Павлова
- c) Тракторный завод
- d) Планетарий

11. Кто из этих завоевателей ближе всех подходил к столице России?

- a) Наполеон
- b) Карл XII
- c) Густав III
- d) Кара-Мустафа

12. Какое из государств в настоящий момент де-юре не является членом СНГ?

- a) Украина
- b) Молдова
- c) Азербайджан
- d) Таджикистан

1.	2.	3.	4.	5.	6.	7.	8.	9.	10.	11.	12.

5. [7 баллов]

Расставьте имена правителей Древнерусского государства, Русского централизованного государства и Российской империи по продолжительности правления, начиная с лидеров, правивших большее время.

1. 50 лет - _____
2. 43 года- _____
3. 37 лет- _____
4. 34 года - _____
5. 33 года- _____
6. 30 лет- _____
7. 28 лет- _____

Олег, Ярослав Мудрый, Василий III, Иван Грозный, Петр I, Екатерина II, Николай I

6. [7 баллов]

Соотнесите по времени правителей Российской империи и имена руководителей внешнеполитических ведомств России. Ответ оформите в виде таблицы.

	Глава государства		Руководитель ведомства
1.	Иван Грозный	А	Г.И. Головкин
2.	Алексей Михайлович	Б	А.П. Бестужев-Рюмин
3.	Петр I	В	А.Л.Ордин-Нащокин
4.	Елизавета Петровна	Г	К.-Р. В. Нессельроде
5.	Екатерина II	Д	И.М. Висковатый
6.	Николай I	Е	Н.И. Панин
7.	Александр III	Ж	А.М. Горчаков

1.	2.	3.	4.	5.	6.	7

7. [8 баллов]

Перед Вами – отрывки из известных произведений древнерусской литературы и миниатюры, являющиеся иллюстрациями к этим произведениям. Прочитайте отрывки, внимательно изучите миниатюры, после чего попытайтесь установить соответствие (миниатюра – отрывок) и определить, каким конкретно событиям они посвящены. Вспомните также названия произведений. Ответ оформите в виде таблицы.

А. И с тех пор прекратились усобицы в Русской земле, а Ярослав принял всю землю Русскую. И начал он расспрашивать о телах святых — как и где похоронены? И о святом <...> поведали ему, что похоронен в Вышгороде. А о святом <...> не все знали, что у Смоленска был убит. И тогда рассказали Ярославу, что слышали от приходящих оттуда: как видели свет и свечи в пустынном месте. И, услышав это, Ярослав послал к Смоленску священников разузнать в чем дело, говоря: «Это брат мой». И нашли его, где были видения, и, придя туда с крестами, и свечами многими, и с кадилами, торжественно положили <...> в ладью и, возвратившись, похоронили его в Вышгороде, где лежит тело преблаженного <...>; раскопав землю, тут и <...> положили с подобающим почетом. И вот что чудесно и дивно и памяти достойно: столько лет лежало тело святого <...> и оставалось невредимым, не тронутым ни хищным зверем, ни червями, даже не почернело, как обычно случается с телами мертвых, но оставалось светлым и красивым, целым и благоуханным. Так Бог сохранил тело своего страстотерпца.


Б. Тогда вот и услышал он о блаженном Антонии, живущем в пещере, и, окрыленный надеждой, поспешил туда. И пришел к преподобному Антонию, и, увидев его, пал ниц, и поклонился со слезами, и стал просить разрешения остаться у него. Великий Антоний стал беседовать с ним и сказал: "Чадо, разве не видишь пещеру эту; уныло место и непригляднее всех других. А ты, как мне думается, еще молод и не сможешь, живя здесь, снести все лишения". Это он говорил, не только испытывая <...>, но и видя прозорливым взором, что тот сам обоснует на этом месте славный монастырь, где соберется множество чернецов. Боговдохновенный <...> отвечал ему с умилением: "Знай, честной отец, что сам бог, все предвидящий, привел меня к святости твоей и велит спасти меня, а потому я исполню все, что ты мне повелишь". Тогда отвечал ему блаженный Антоний: "Благословенен бог, укрепивший тебя, чадо, на этот подвиг. Вот твое место, оставайся здесь!"

В. Святой же, когда услышал об этом от великого князя, благословил его, молитвой вооружил и сказал: "Следует тебе, господин, заботиться о порученном тебе богом славном христианском стаде. Иди против безбожных, и если бог поможет тебе, ты победишь и

невредимым в свое отечество с великой честью вернешься”. Великий же князь ответил: “Если мне бог поможет, отче, поставлю монастырь в честь пречистой Богоматери”. И, сказав это и получив благословение, ушел из монастыря, и быстро отправился в путь. Собрав всех воинов своих, выступил он против безбожных татар; увидев же войско татарское весьма многочисленное, они остановились в сомнении, страхом многие из них охвачены были, размышляя, что же делать. И вот внезапно в это время появился гонец с посланием от святого, гласящим: “Без всякого сомнения, господин, смело вступай в бой со свирепостью их, нисколько не уstraшаясь, — обязательно поможет тебе бог”.

Г. Посем указ пришел: велено меня из Тобольска на Лену вести за сие, что браню от писания и укоряю ересь Никонову. В та же времена пришла ко мне с Москвы грамотка. Два брата жили у царицы вверху, а оба умерли в мор с женами и с детьми; и многия друзья и сродники померли. Излиял бог на царство фиял гнева своего! Да не узнались горюны однако, - церковью мятут. Говорил тогда и сказывал Неронов царю три пагубы за церковный раскол: мор, меч, разделение; то и сбилось во дни наша ныне. Но милостив господь: наказав, покаяния ради и помилует нас, прогнав болезни душ наших и телес, и тишину подаст. Уповаю и надеюся на Христа; ожидаю милосердия его и чаю воскресения мертвым. Таже сел опять на корабль свой, еже и показан ми, что выше сего рекох, - поехал на Лену. А как приехал в Енисейской, другой указ пришел: велено в Дауры вести - двадцать тысяч и больши будет от Москвы. И отдали меня Афонасью Пашкову в полк, - людей с ним было 600 человек; и грех ради моих суров человек: беспрестанно людей жжет, и мучит, и бьет. И я ево много уговаривал, да и сам в руки попал. А с Москвы от Никона приказано ему мучить меня





3.



4.

Отрывок	Название произведения	Номер миниатюры	Событие
А.			
Б.			
В.			
Г.			

8. [10 баллов].

Перед Вами – карта земель Древней Руси, на которой отмечены несколько городов. Соотнесите города с их расположением на карте и приведите их названия (современные) там, где они пропущены.

- _____ Вероятно, возник в последней четверти X в. Впервые упоминается в Ипатьевской летописи под 1146 г. как Дьбрянск. Входил в Черниговское княжество; в 1246 г., после разорения монголами Чернигова, Новгорода-Северского и других городов княжества, сюда из Чернигова был перенесен княжеский стол.
- Кснятин – по наиболее распространенной версии, основан Юрием Долгоруким. Под 1148 г. упоминается как укрепленный пункт на границе Ростовской и Новгородской земель. Разрушен Батыем. Утратил городской статус в XV в.
- Звенигород – упомянут в летописи под 1097 г. как место ослепления Василька Тербовольского, позже дважды упомянут в Ипатьевской летописи при описании борьбы за киевский престол между Юрием Долгоруким и Изяславом Мстиславичем в 1150 и 1151 гг. Перестал существовать после разрушения монголами.
- _____ – впервые упоминается в летописи под 1146 г. В 1225 г. в город была принесена из Херсонеса икона Николая Чудотворца. В 1237 году был сожжен Батыем. Согласно циклу «Повестей о Николае Заразском», его князь Фёдор Юрьевич был убит Батыем, а жена князя, княгиня Евпраксия, не желая оказаться в татарском плену,

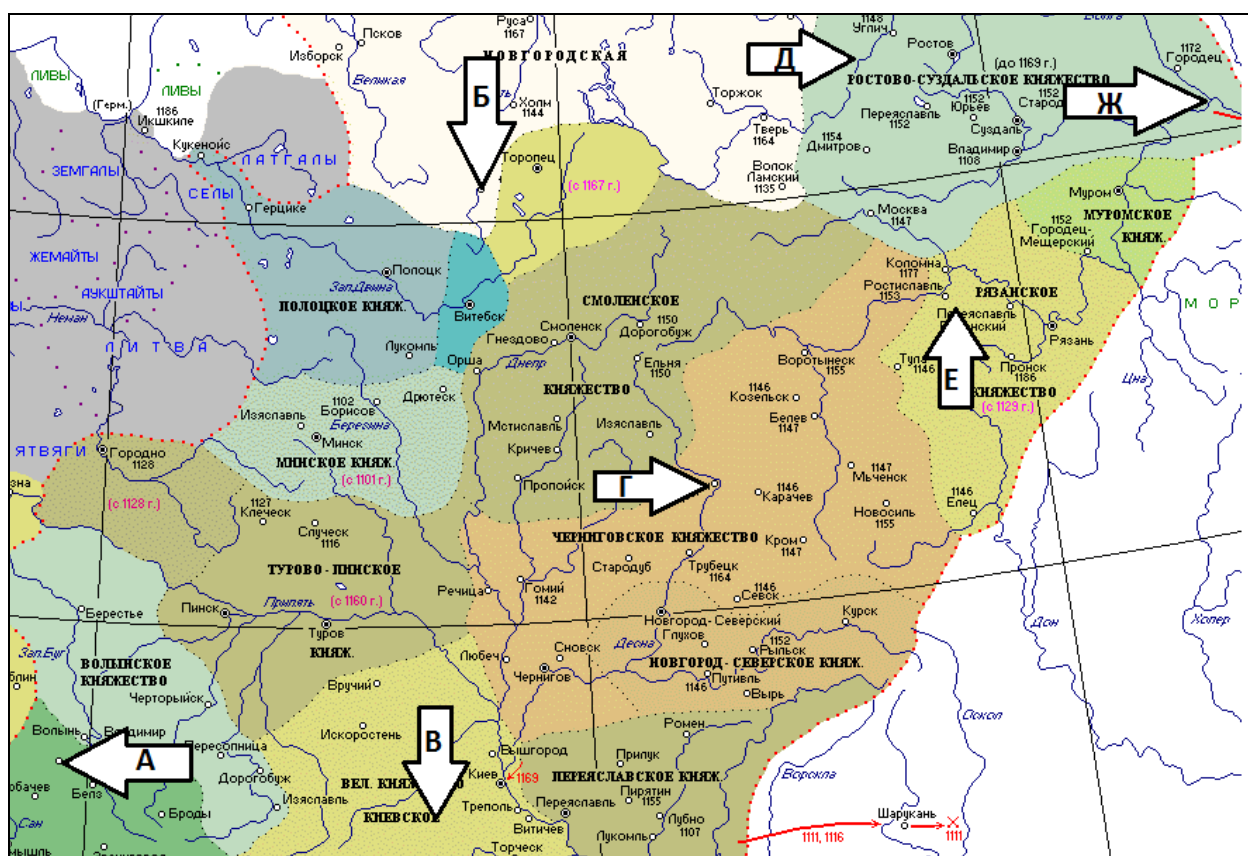
вместе с малолетним сыном Иваном выбросилась из своего терема и «заразилась» (ударилась) до смерти.

5. _____ основан в 1221 г. Юрием Всеволодовичем для обороны от волжских булгар. В XIV веке вошел в состав Суздальского княжения, а затем стал его столицей.

6. Великие Луки – впервые упоминается под названием Луки на Ловати под 1166 г. в составе Новгородской земли. Построенная в начале XII в. крепость играла важную роль в обороне южных границ Новгородской земли от литовцев.

7. Червен - впервые упоминается в Повести временных лет в 981 году, когда Владимир Святославич отвоевал его у поляков. В 1018 г. захвачен Болеславом Храбрым, в 1031 г. возвращен Ярославом Мудрым. В XII в. играл важную роль в противостоянии русских княжеств с поляками. Пришел в упадок после монгольского завоевания.

Номер	1	2	3	4	5	6	7
Название города		Кснятин	Звенигород			Великие Луки	Червен
Буква (на карте)							



9. [8 баллов]

Перед Вами несколько картин, в основу которых положены известные исторические события. Вспомните автора этих полотен и расположите картины в хронологической последовательности (последовательности изображенных на них событий). Ответ оформите в виде таблицы.



А.



Б.



В.



Г.



Д.



Е.

Последовательность	Буквенное обозначение картины	Событие (желательно с датировкой)
1.		
2.		
3.		
4.		
5.		
6.		

Автор (художник) _____

10. [10 баллов]

Перед Вами факты из биографий выдающихся военачальников, связанных с событиями Сталинградской битвы. Определите, о ком идет речь в каждом из фрагментов. Ответ оформите в виде таблицы.

1. В начале лета 1942 г. принимает командование 64-й, потом (с августа 1942 г.) - 62-й армией, вынесшей особую тяжесть борьбы за Сталинград. Дважды Герой Советского Союза. Согласно его завещанию, похоронен на Мамаевом кургане у подножья монумента «Родина-мать».

2. В сентябре 1942 г. в разгар наиболее ожесточенных боев за Сталинград находящаяся под его командованием 13-я гвардейская стрелковая дивизия была переправлена с левого берега Волги в город, отбросила гитлеровцев от переправы и овладела Мамаевым курганом. Дважды Герой Советского Союза.

3. С августа 1942 г. – командующий 64-й армией. 31 января 1943 года руководил допросом генерала-фельдмаршала Фридриха фон Паулюса, взятого 64-й армией в плен под Сталинградом. Герой Советского Союза. Похоронен в большой братской могиле на Мамаевом кургане.

4. Великая Отечественная война застала его в должности начальника Генерального штаба Красной Армии. В период Сталинградской битвы как представитель Ставки ВГК координировал удары армий Сталинградского фронта. Являлся соавтором (вместе с Василевским) ключевого советского военного плана 1942 года — плана стратегической операции «Уран». В январе 1943 г. ему было присвоено звание Маршала Советского Союза. Он стал первым маршалом СССР с начала войны. Четырежды Герой Советского Союза.

5. В сентябре 1942 г. едва оправившись после тяжелого ранения был назначен командующим Донским фронтом. При его участии был разработан план операции «Уран» (разгром вражеской группировки Ставка поручила именно Донскому фронту). 31 января 1943 г. войска под его командованием пленили фельдмаршала Фридриха фон Паулюса, а также 24 генерала, 2500 немецких офицеров, 90 тыс. солдат. В январе 1943 г. был награждён только что учреждённым орденом Суворова. Дважды Герой Советского Союза.

№ фрагмента	Фамилия военачальника
1.	
2.	
3.	
4.	
5.	

11. [3 балла]

Определите, о каких предметах крестьянского быта идет речь в этих загадках?

1. К реке идут – поют,
Назад идут – плачут.

Отгадка: _____

2. Побегу в сторону –
Останется хвост
На семь вёрст.

Отгадка: _____

3. Кверху дном – полная,
Книзу дном – пустая.

Отгадка: _____

12. [15 баллов]

Перед Вами – данные о государственном бюджете Российской империи в XIX в. Внимательно изучите данные таблиц и ответьте на вопросы.

Таблица 1.

Год	Прямые налоги		Косвенные налоги		Итого налогов	
	Сумма в милл. руб.	% отношение к общей сумме налогов	Сумма в милл. руб.	% отношение к общей сумме налогов	Сумма в милл. руб.	% отношение к общей сумме обычных доходов
1832	43,0	36,6	74,7	63,4	117,6	85,9
1837	50,9	41,1	72,9	58,9	123,8	78,1
1847	52,1	32,7	107,8	67,3	160,0	76,3
1857	54,8	29,0	133,8	71,0	188,6	60,9
1867	93,5	33,0	187,3	66,7	280,8	64,0
1877	133,9	33,0	272,2	67,0	406,1	67,9
1881	139,9	29,9	327,7	70,1	467,6	64,1
1886	124,3	24,4	385,1	75,6	509,4	65,8
1887	81,3	16,8	401,9	83,2	483,2	58,9
1891	88,5	17,0	432,5	83,0	521,1	58,5
1892	91,3	16,3	466,9	83,7	558,2	57,9
1897	101,4	14,5	596,4	85,5	697,8	49,3

Таблица 2.

Косвенные налоги (в миллионах рублей)				
	1867	1877	1887	1897
Таможенные пошлины	38,0	52,6	97,0	195,6
Акцизы: питейный	133,9	190,9	257,7	280,1
Акцизы: табачный	7,0	12,6	24,1	35,3
Акцизы: сахарный	1,6	6,8	23,2	55,5
Акцизы: соляной	6,8	9,1	-	-
Акцизы: нефтяной	-	-	-	22,8
Акцизы: спичечный	-	-	-	7,1
Итого	187,3	272,2	401,0	596,4

1. Что такое прямые и косвенные налоги?

2. Как соотносятся между собой доли прямых и косвенных налогов во второй половине XIX в.?

Каковы причины этого: из приведенных ниже объяснений выберите (обведите в кружок) правильные.

- А. Реформа государственной деревни П.Д. Киселева.
- Б. Отмена подушной подати в 1887 г.
- В. Развитие товарно-денежных отношений.
- Г. Введение категории посессионных крестьян.

Д. Введение государственной винной монополии.

Е. Отмена выкупных платежей.

3. Охарактеризуйте, как изменилась система косвенного обложения во второй половине XIX в.? Что в ней появилось нового, что исчезло? Дайте развернутый ответ.

**ЖЕЛАЕМ УДАЧИ!!!
ДО ВСТРЕЧИ ВО ВТОРОМ ТУРЕ!!!**