

10 класс

**Задача 1. Шарик в сосуде с водой**

Пусть плотности воды, деревянного и металлического шариков равны  $\rho$ ,  $\rho_1$  и  $\rho_2$  соответственно, объёмы шариков —  $V_1$  и  $V_2$ , расстояние от оси вращения до деревянного шарика  $R$ , силы натяжения верхней и нижней нитей  $T_1$  и  $T_2$ , угловая скорость вращения  $\omega$ .

1. Рассмотрим мысленно вместо деревянного шарика шарик из воды. На эти шарик действует одинаковая сила Архимеда (рис. 19).

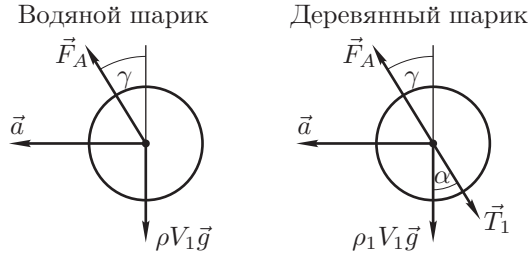


Рис. 19

Ускорение шариков  $a = \omega^2 R$ . По второму закону Ньютона в проекциях на горизонтальное и вертикальное направления:

$$F_A \sin \gamma = \rho V_1 \omega^2 R, \quad F_A \sin \gamma - T_1 \sin \alpha = \rho_1 V_1 \omega^2 R,$$

$$F_A \cos \gamma = \rho V_1 g, \quad F_A \cos \gamma - T_1 \cos \alpha = \rho_1 V_1 g.$$

Отсюда:

$$\operatorname{tg} \gamma = \frac{\omega^2 R}{g}, \quad \operatorname{tg} \alpha = \frac{\omega^2 R}{g}.$$

Итак,  $\gamma = \alpha$ , то есть получаем ответ на первый вопрос: сила Архимеда направлена под углом  $\alpha$  к вертикали, то есть, вдоль нити.

2. Найдём горизонтальные и вертикальные составляющие сил Архимеда, действующих на шарик (рис. 20):

$$F_{A1x} = \rho V_1 \omega^2 R, \quad F_{A1y} = \rho V_1 g,$$

$$F_{A2x} = \rho V_2 \omega^2 \cdot 3R, \quad F_{A2y} = \rho V_2 g.$$

По второму закону Ньютона:

$$\begin{cases} F_{A1x} - T_1 \sin \alpha = \rho_1 V_1 \omega^2 R, \\ F_{A1y} - \rho_1 V_1 g - T_1 \cos \alpha = 0, \\ F_{A2x} + T_1 \sin \alpha + T_2 \cos \alpha = \rho_2 V_2 \omega^2 \cdot 3R, \\ F_{A2y} - \rho_2 V_2 g + T_1 \cos \alpha - T_2 \sin \alpha = 0. \end{cases}$$

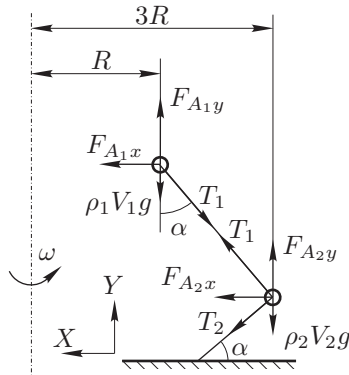


Рис. 20

Из записанных уравнений находим:

$$\begin{cases} (\rho - \rho_1) V_1 \omega^2 R = T_1 \sin \alpha, \\ (\rho - \rho_1) V_1 g = T_1 \cos \alpha, \\ (\rho_2 - \rho) V_2 \omega^2 \cdot 3R = T_1 \sin \alpha + T_2 \cos \alpha, \\ (\rho_2 - \rho) V_2 g = T_1 \cos \alpha - T_2 \sin \alpha. \end{cases}$$

Отсюда:

$$3 \operatorname{tg} \alpha = \frac{x \sin \alpha + \cos \alpha}{x \cos \alpha - \sin \alpha}, \quad \text{где } x = \frac{T_1}{T_2}.$$

Зная  $\alpha$ , находим:

$$x = \frac{T_1}{T_2} = \frac{19}{8}.$$

*Критерии оценивания*

Направление силы Архимеда, действующей на деревянный шарик:	
Приведено объяснение .....	2
Найдено направление .....	1
Записана система уравнений Ньютона, описывающая движение системы ...	4
Найдено отношение сил натяжения .....	3

**Задача 2. Тепловая машина**

1. По теореме Карно

$$\frac{Q_1 - Q_2}{Q_1} = \frac{T_1 - T_2}{T_1}; \quad \frac{Q_1}{T_1} = \frac{Q_2}{T_2}.$$

Здесь  $Q_1$  и  $Q_2$  — количество теплоты, забираемое от нагревателя и передаваемое холодильнику соответственно.

$$Q_2 = mq, \quad Q_1 = mq + A_{max}.$$

Следовательно:

$$A_{max} = mq \left( \frac{T_1}{T_2} - 1 \right) = 2,45 \cdot 10^{13} \text{ Дж}.$$

2. Пусть в этом случае  $Q_2$  — количество теплоты, перекаченное тепловым насосом в котёл,  $Q_1$  — количество теплоты, забираемое от Гольфстрима.

$$\frac{Q_2}{T_0} = \frac{Q_1}{T_1}, \quad Q_2 = \lambda m_{\text{в}}, \quad Q_1 = Q_2 - A_{max}.$$

Отсюда:

$$\frac{\lambda m_{\text{в}}}{T_1} - \frac{\lambda m_{\text{в}}}{T_0} = \frac{A_{\text{max}}}{T_1}, \quad T_1 < T_0.$$

Следовательно:

$$m_{\text{в}} = \frac{A_{\text{max}}}{\lambda \left(1 - \frac{T_1}{T_0}\right)} = 5,12 \cdot 10^7 \text{ кг.}$$

Критерии оценивания

Записана теорема Карно для первого случая .....	3
Найдена максимальная работа в первом случае.....	2
Записана теорема Карно для второго случая .....	3
Определена максимальная масса испарённой воды во втором случае.....	2

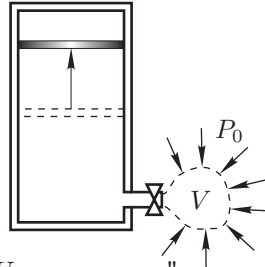
### Задача 3. Адиабатический процесс

Пусть при заполнении сосуда газом снаружи в сосуд перешёл газ, ранее занимавший объём  $V$  (рис. 21). Внешнее давление при "продавливании" внутрь этого объёма совершает работу  $A_{\text{внеш}} = P_0 V$ .

Закон сохранения энергии для системы газ в сосуде — "внешний" газ объёма  $V$  — поршень выглядит так:

$$U_1 + U_2 + A_{\text{внеш}} = U + \Delta E_{\text{п}}, \quad (13)$$

где  $U_1$  — внутренняя энергия исходного газа в сосуде,  $U_2$  — энергия "внешнего" газа из объёма  $V$ ,  $U$  — энергия газа в сосуде после заполнения,  $\Delta E_{\text{п}}$  — изменение потенциальной энергии поршня.



$$U_1 = \frac{3P_0}{2} V_0; \quad U_2 = \frac{3}{2} P_0 V; \quad U = \frac{3}{2} P_0 2V_0; \quad (14)$$

$$\Delta E_{\text{п}} = mg\Delta h = \frac{P_0}{2} S\Delta h = \frac{P_0}{2} V_0. \quad (15)$$

Подставляя (14) и (15) в уравнение (13), после преобразований получим:

$$\frac{5}{2} P_0 V = \frac{11}{4} P_0 V_0, \quad (16)$$

$$V = \frac{11}{10} V_0. \quad (17)$$

Исходное число молей газа в сосуде  $\nu_1 = \frac{P_0 V_0}{2RT_0}$ , число молей "внешнего" газа в сосуде  $\nu_2 = \frac{11 P_0 V_0}{10 RT_0}$ . Итого  $\nu = \nu_1 + \nu_2 = \frac{8 P_0 V_0}{5 RT_0}$ . Из уравнения состояния:

$$\frac{P_0 \cdot 2V_0}{RT} = \frac{8 P_0 V_0}{5 RT_0}, \quad (18)$$

откуда:

$$T = \frac{5}{4} T_0. \quad (19)$$

Критерии оценивания

Записан закон сохранения энергии .....	2
Получены выражения для $U_1$ , $U_2$ , $U$ и $\Delta E_{\text{п}}$ (по баллу за каждую из формул) .....	4
Найдён объём $V$ закачанного газа .....	1
Записано уравнение состояния для газа, находящегося в сосуде после установления равновесия .....	2
Определена конечная температура $T$ газа .....	1

### Задача 4. Слоистый диэлектрик

1. Пусть  $E_1$  и  $E_2$  — напряжённости однородных электрических полей в верхней и нижней пластине соответственно. Тогда:

$$E_1 \frac{d}{2} + E_2 \frac{d}{2} = \mathcal{E}. \quad (20)$$

Здесь  $E_1 d/2$  и  $E_2 d/2$  — падения напряжений на слоях. По закону Ома:

$$E_1 \frac{d}{2} = I_1 \frac{1}{\lambda_1} \frac{d/2}{S}, \quad E_2 \frac{d}{2} = I_2 \frac{1}{\lambda_2} \frac{d/2}{S}, \quad (21)$$

где  $I_1 = I_2$  — силы токов, текущих в 1-ом и 2-ом слоях,  $S$  — площадь пластин конденсатора. Поделив почленно эти соотношения, получим:

$$\frac{E_1}{E_2} = \frac{\lambda_1}{\lambda_2}. \quad (22)$$

Решая систему из двух уравнений (20) и (22), найдём:

$$E_1 = \frac{2\mathcal{E}}{d(1 + \lambda_1/\lambda_2)}, \quad E_2 = \frac{2\mathcal{E}}{d(1 + \lambda_2/\lambda_1)}. \quad (23)$$

Найдём теперь поверхностные плотности зарядов на пластинах конденсатора

$$\sigma_1 = \varepsilon_0 E_1 = \frac{2\varepsilon_0 \mathcal{E}}{d(1 + \lambda_1/\lambda_2)}; \quad \sigma_2 = -\varepsilon_0 E_2 = -\frac{2\varepsilon_0 \mathcal{E}}{d(1 + \lambda_2/\lambda_1)}. \quad (24)$$

2. Полный заряд конденсатора, включающий заряды на пластинах и заряд в плоскости контакта слоёв, равен нулю. Пусть  $\sigma$  — поверхностная плотность заряда в плоскости контакта. Условие равенства нулю полного заряда:

$$\sigma_1 + \sigma_2 + \sigma = 0. \quad (25)$$

Отсюда:

$$\sigma = -\sigma_1 - \sigma_2 = -\frac{2\varepsilon_0\mathcal{E}}{d} \left( \frac{1}{1 + \lambda_1/\lambda_2} - \frac{1}{1 + \lambda_2/\lambda_1} \right) = -\frac{2\varepsilon_0\mathcal{E}}{d} \frac{\lambda_2 - \lambda_1}{\lambda_1 + \lambda_2}. \quad (26)$$

Или, если выразить  $\sigma$  через удельные сопротивления:

$$\sigma = -\frac{2\varepsilon_0\mathcal{E}}{d} \frac{\rho_1 - \rho_2}{\rho_1 + \rho_2}. \quad (27)$$

*Критерии оценивания*

Указано соотношение между напряжённостями поля в конденсаторе и напряжением на нём.....	1
Найдено соотношение между напряжённостями $E_1$ и $E_2$ поля в диэлектрических слоях.....	1
Определена напряжённость $E_1$ поля в слое с проводимостью $\lambda_1$ .....	1
Определена напряжённость $E_2$ поля в слое с проводимостью $\lambda_2$ .....	1
Найдена поверхностная плотность заряда $\sigma_1$ .....	2
Найдена поверхностная плотность заряда $\sigma_2$ .....	2
Найдена поверхностная плотность заряда в плоскости контакта слоёв.....	2

**Задача 5. Перезарядка конденсаторов**

1. Рассмотрим процессы перезарядки конденсаторов в первом цикле.

$$C_1U_1 + CU_2 = (C_1 + C)U'_1; \quad U'_1 = \frac{C_1U_1 + CU_2}{C_1 + C}.$$

$$C_2U_2 + CU'_1 = (C_2 + C)U'_2;$$

$$U'_2 = \frac{C_2U_2 + C \frac{C_1U_1 + CU_2}{C_1 + C}}{C_2 + C} = \frac{C_2C_1U_2 + CC_2U_2 + C_1CU_1 + C^2U_2}{(C_1 + C)(C_2 + C)}.$$

$$\Delta U' = U'_2 - U'_1 =$$

$$= \frac{C_1C_2U_2 + CC_2U_2 + CC_1U_1 + C^2U_2 - C_1C_2U_1 - CC_2U_2 - CC_1U_1 - C^2U_2}{(C_1 + C)(C_2 + C)} =$$

$$= \frac{C_1C_2}{(C_1 + C)(C_2 + C)}(U_2 - U_1);$$

$$\frac{\Delta U'}{(\Delta U)_0} = \frac{C_1C_2}{(C_1 + C)(C_2 + C)} = A < 1$$

Таким образом, после каждого цикла разность напряжений на конденсаторах уменьшается в  $\left(\frac{1}{A}\right)$  раз. После  $n$  циклов разность напряжений уменьшится в  $\left(\frac{1}{A}\right)^n$  раз. По условию задачи

$$\left(\frac{1}{A}\right)^{44} = 100 \Rightarrow \frac{1}{A} = \left(1 + \frac{C}{C_1}\right) \left(1 + \frac{C}{C_2}\right) = \sqrt[44]{100} \approx 1,11.$$

Как видим, должны выполняться неравенства:  $C \ll C_1, C \ll C_2$ . Пренебрегая членами второго порядка малости относительно  $C/C_1$  и  $C/C_2$ , можем записать:

$$\frac{1}{A} - 1 \approx C \cdot \left(\frac{1}{C_1} + \frac{1}{C_2}\right) = 0,11.$$

Подставляя значения величин  $C_1$  и  $C_2$ , получим:

$$C = 1 \text{ мкФ}.$$

2. После большого числа циклов напряжения на всех конденсаторах окажутся одинаковыми ( $U_\infty$ ) и их можно соединить параллельно. При этом заряд батареи конденсаторов равен первоначальному заряду конденсаторов:

$$C_1U_1 + C_2U_2 + CU_2 = (C_1 + C_2 + C)U_\infty,$$

$$U_\infty = \frac{C_1U_1 + C_2U_2 + CU_2}{C_1 + C_2 + C} = \frac{9U_1 + 10U_2}{19} = 136 \text{ В}.$$

$$3. (W_\vartheta)_0 = \frac{C_1U_1^2}{2} + \frac{(C_2 + C)U_2^2}{2} = \frac{18 \cdot (76)^2}{2} \cdot 10^{-6} + \frac{20 \cdot (190)^2}{2} \cdot 10^{-6} = 0,413 \text{ Дж}.$$

$$(W_\vartheta)_\infty = \frac{(C_1 + C_2 + C)U_\infty^2}{2} = \frac{38 \cdot (136)^2}{2} \cdot 10^{-6} = 0,351 \text{ Дж}.$$

На резисторе выделится тепловая энергия  $Q = \Delta W_\vartheta$ .

$$Q = \Delta W_\vartheta = (W_\vartheta)_0 - (W_\vartheta)_\infty = 0,062 \text{ Дж}.$$

*Критерии оценивания*

Записано выражение для $U'_1$ .....	1
Записано выражение для $U'_2$ .....	1
Получено выражение, связывающее $\Delta U'$ с $\Delta U$ .....	2
Определена ёмкость конденсатора $C$ .....	2
Записан закон сохранения заряда для установившегося напряжения .....	2
Найдено установившееся напряжение .....	1
Определена тепловая энергия, выделившаяся на резисторе $R$ .....	1